

大學入學考試中心
93學年度學科能力測驗試題

社會考科地理試題解析

新北市立錦和高級中學地理科教學團隊研製

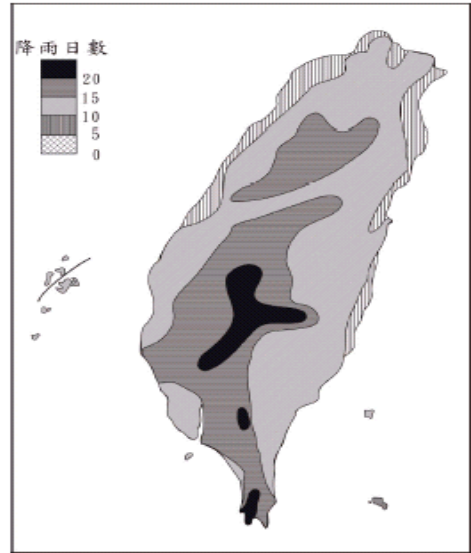
版權所有・僅供教學



壹、單選題（80分）

* (C) 1. 撰於清康熙年間的某一古籍，對臺灣某一河川岸邊的景觀，有如下的記載：「旱田百餘里，夾道蔗林。……臺民以蔗為生，糖貨之利上資江浙。」該文記述的，最可能是下列哪一條河川的河岸景觀？(A)蘭陽溪 (B)花蓮溪 (C)高屏溪 (D)濁水溪。

* (C) 2. 日本、臺灣和菲律賓，都有許多地理學者針對海階地形進行研究。這些研究有助於釐清下列哪一項環境變遷議題？(A)西太平洋地震帶的地震發生週期 (B)東亞地區活斷層的等級區分與空間分布 (C)近一萬年來西太平洋海水面下降的程度 (D)西太平洋洋流系統流速變化週期的分析。



圖一

* (D) 3. 圖一為臺灣本島七月份的降水日數分布圖，影響圖中七月雨日等值

線分布的最主要因素為何？(A)風向、緯度 (B)緯度、洋流 (C)洋流、地形 (D)地形、風向。

* (C) 4. 依照自然環境和人文活動的差異，可將中國區分為華南、華中、華北、東北、

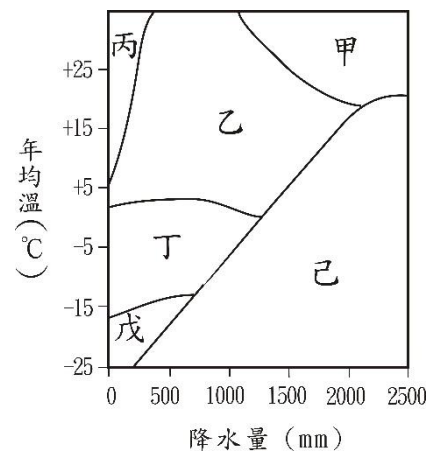
1. 清康熙年間臺灣地區的開發主要以西南部地區為主，題意：「旱田百餘里，夾道蔗林……」可知甘蔗是當地的主要作物。臺灣蔗糖的種植受到氣候影響，主要分布於大安溪以南（苗栗、臺中交界），即臺中縣以南地區；東部的蔗糖種植是日治時期，為推廣熱帶經濟作物才發展起來。南部的高屏地區因乾季長，水利設施不足，旱田也符合臺灣西南部的景觀，故南部的高屏溪較符合題意敘述。
2. 海階為昔日代表海平面高度的海蝕平臺，當遭遇到板塊抬升，陸地離水作用後所造成地形，離水原因除了陸地上升所導致外，另外海平面下降也是可能原因之一。選項(A)、(B)為板塊擠壓作用，但與海階的形成無直接影響。(D)與海階的形成亦無任何關連。(C)選項指的是離水作用的現象，與陸地上升形成海階有直接影響。
3. 臺灣夏季降雨日數分布，以中央山脈附近降雨日數較多，雨量山地多於平地，此季節臺灣主要受到西南季風影響，因此這些山脈的西麓受到迎風面影響雨量較多，故臺灣七月份雨量分布主要受到地形以及迎風面影響為主。
4. (A)熱帶季風夏季盛行西南風，冬季則是吹東北風，以北回歸線（一月均溫 18°C ）與副熱帶季風作為區分，故西南季風北界約等同於北回歸線；(B)一月均溫 0°C 等溫線通過秦嶺、淮河；(C)華北與塞北的分界，大致以年雨量 400 公釐等雨線（農、牧分界）作為區分



塞北和西部六個地理區。下列哪一條界線，位於華北與塞北兩個地理區的過渡地帶上？(A)西南季風北限界線 (B)一月均溫 0°C 等溫線 (C)年雨量400公厘等雨線 (D)年均降水日數120日等值線。

- * (B) 5. 臺灣東岸的商港或漁港，都比西岸少許多。造成此現象的最主要原因為何？
 (A)地震、颱風等災害頻繁 (B)斷層海岸平直缺乏灣澳 (C)鐵、公路等交通不順暢 (D)黑潮流勢強勁行船不易。
- * (D) 6. 夏至時，臺灣下列哪一個都市的白晝時間最長？(A)高雄 (B)嘉義 (C)臺中 (D)臺北。

- * (D) 7. 圖二為物理風化與氣溫、降水的關係示意圖，圖中哪兩個區塊的物理風化作用最為盛行？(A)甲、丙 (B)甲、戊 (C)乙、戊 (D)丙、丁。

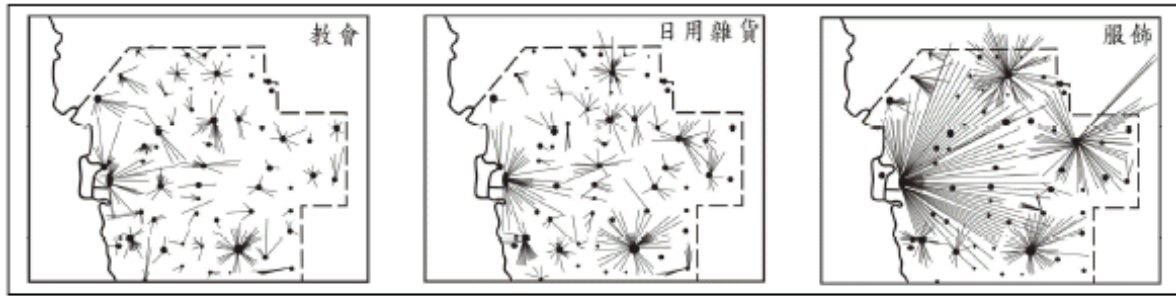


- * (A) 8. 圖三為某地區的居民，獲得三種商品或服務的空間移動示意圖。下列有關該地居民空間移動的說明，何者正確？(A)商品或服務的等級愈高，移動的距離愈遠 (B)商品或

服務的需求愈頻繁，移動的距離愈遠 (C)供應商品或服務的地點愈多，移動的距離愈遠 (D)取得商品的移動距離較遠，取得服務的移動距離較近。

，也是中國大陸地區乾燥氣候與季風氣候的分界；(D)則無明顯界線。

5. 東岸的商港或漁港不如西岸，主因臺灣東岸是平直的斷層海岸，缺乏岬角、灣澳，不適合漁業或港口的發展。此外，交通不便使東部開發相對較遲，進而造成發展的瓶頸，因此港口遠較西部為少。
6. 夏至為國曆6月21日前後，此時太陽直射北回歸線，受到地軸傾斜 23.5° 度的影響，北半球緯度愈高，日照的時間也愈長（北極圈即將進入永晝的季節）。因此，緯度愈高，晝夜變化也就愈大，選項中以臺北緯度最高，太陽斜射，所以白晝時間最長。
7. 物理風化是指岩石在原地崩解，最常見的物理風化包括熱漲冷縮、結晶增壓、減壓膨脹，物理風化發生的條件一般為乾燥少雨（水分少，水分多則以化學風化為主）及溫差變化劇烈。丙地高溫又乾燥，為熱帶沙漠區，熱脹冷縮作用盛行；丁地因位於 0°C 上下的冰緣區，低溫少雨，為寒帶地區，凍融作用盛行，物理風化作用最為盛行（盛行凍裂作用）。
8. 依據中地理論，若商品或服務的價格較低或需求頻率較高，此商品等級較低，所需市場較小，在小聚落中即可存在，故一般居民移動較短距離即可獲得此商品或服務，如日用雜貨；反之，若商品或服務的等級較高，一般居民需移動較大距離方可獲得此商品或服務，如高級服飾。



圖三

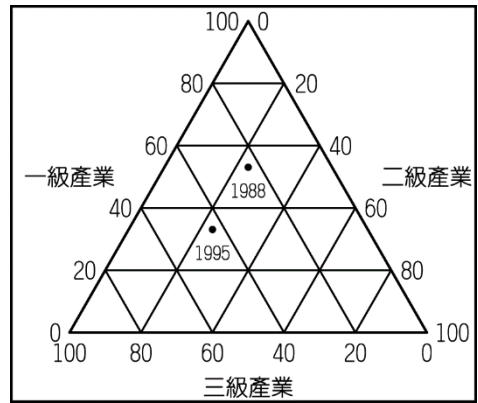
- * (BD) 9.地方生活圈的國土規劃，是計劃在同一個生活圈的居民，能夠獲得工作、交通、居住、文化、教育、醫療、娛樂的基本需求，以達到均衡區域發展、縮小區域差異的目標。請問政府近年來進行的交通建設中，哪一項最具有促進生活圈內部整合的功能？(A)高速鐵路 (B)捷運系統 (C)第二高速公路 (D)東西向快速道路。
- * (B) 10.潮境是指兩種不同的海流或水塊交匯的海域，通常是指寒暖流相匯的地區，因魚群聚集，往往也是重要的漁場所在。下列那二個漁場屬於潮境漁場？甲、日本東部外海 乙、秘魯西部外海 丙、南非西部外海 丁、澳洲西部外海 戊、加拿大東部外海：(A)甲、乙 (B)甲、戊 (C)乙、丁 (D)丙、戊。
- * (A) 11.以下是一段有關某工業類型與其區位的陳述：「該工業需要高度的技術和巨大的設備，並能帶動許多相關產業的發展；由於大多數國家需要進口原料，工廠也就多設於靠近消費地的港口都市。」這個陳述指的最可能是下列哪一種工業？(A)石化工業 (B)機械工業 (C)電子工業 (D)運輸設備工業。

9. 題意：「…計劃在同一個生活圈的居民，能夠獲得工作、交通、居住、文化、教育、醫療、娛樂的基本需求，以達到均衡區域發展、縮小區域差異的目標」，就全臺灣所劃分的 14 個地方生活圈，其範圍均在適當區域內（不過大也不太小），以(B)捷運系統、(D)東西向快速道路所溝通聯繫的範圍較為適中。(A)高速鐵路、(C)第二高速公路所溝通串連的範圍廣闊較不恰當。
10. 甲、日本東部外海：黑潮（暖流）與親潮（寒流）交會；乙、秘魯西部外海：秘魯涼流；丙、南非西部外海：本吉拉涼流；丁、澳洲西部外海：西澳涼流；戊、加拿大東部外海：墨西哥灣暖流與拉布拉多寒流交會。故選(B)甲、戊。
11. (A)石化工業基本分成上游及下游二部分，上游以原油、天然氣為原料，所生產的乙烯、芳香烴等產品可作為下游工廠的基本原料，經多次加工後，可得塑膠、塑化纖維（布匹）等產品，需要高度的技術與投資。但因全球產油國較少，多數國家必須依賴進口，而原油製成產品後種類繁多，運費均比原油昂貴，故多數國家進口原油，將石化工廠設於靠近消費地的港口都市。例如「臺灣中國石油」在高雄港邊的臨海工業區及林園、後勁工業區有大規模的廠房設施；民營的臺塑石化公司，亦在雲林麥寮地區設有六輕工業區。(D)運輸設備工業所需的廠房較為廣大。



* (C) 12. 在臺灣不同的歷史階段中，會出現一些具有時代背景特色的新地名，例如信義（南投縣信義鄉）、公館（苗栗縣公館鄉）、麻豆（臺南縣麻豆鎮）、關山（臺東縣關山鎮）等。這四個地名出現的時間先後順序為何？(A) 信義—公館—麻豆—關山 (B) 公館—麻豆—關山—信義 (C) 麻豆—公館—關山—信義 (D) 麻豆—信義—公館—關山。

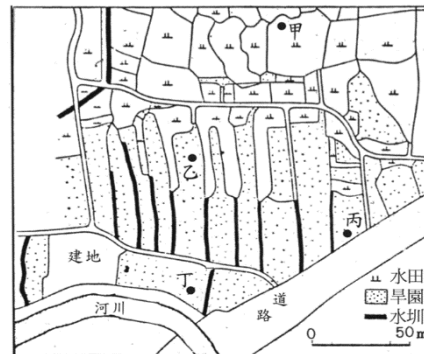
* (A) 13. 圖四為中國海南省 1988 與 1995 年三級產業的人口比例圖。下列有關此圖的解讀，何者最為正確？(A) 農業人口急速減少 (B) 工業生產發展快速 (C) 服務業部門成長趨緩 (D) 農業人口大量投入工業。



◎ 下圖是某地區的農村聚落景觀，下表是四個國家的人口密度與農地上農業人口密度資料。請問：

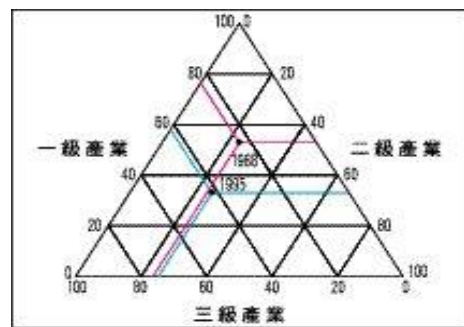
(單位：人／平方公里)

國別	戊	己	庚	辛
人口密度				
國家人口密度	75	1642	118	2380
農地上農業人口密度	209	34	1	135



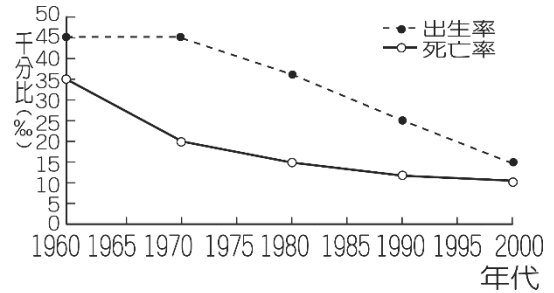
12. 麻豆為平埔族西拉雅人聚落名稱為原住民語眼睛之意；公館為清代收租館或驛站及處理移民事務的單位；關山為日治時期開發東部之日式地名；信義主要是布農族聚居地區，為戰後國民政府遷臺後的地名。

13. 由三角圖解中可以判讀出，海南省 1988 年三級產業結構分別是 (58、21、21)，1995 年時三級產業結構是 (38、21、41)。其中第一級產業比例大幅下降，二級產業變動不大，三級產業比例大量增加，其改變主要因為經濟改革開放及設立經濟特區後，第二級產業就業機會增加，第三級產業的人口漸興，導致一級產業人口減少。





- * (A) 14. 圖中甲、乙、丙、丁四個地點，何者的地勢最低？(A)甲 (B)乙 (C)丙 (D)丁。
- * (AD) 15. 圖中所示的農村聚落景觀，最可能出現在表中的哪一個國家之中？(A)戊 (B)己 (C)庚 (D)辛。
- * (B) 16. 庚國的農業經營，最可能具有下列哪一項特徵？(A)耕地零細化 (B)高度機械化 (C)勞動力老化 (D)作物雜異化。
- * (B) 17. 一個國家的社會福利政策，必須考慮該社會的人口結構與人口變遷。右圖是某國近四十年出生率與死亡率的變化資料，根據此項資料，下列哪些社會福利政策是該國最應優先實施的？
 (甲)廣設大學科系以滿足教育的需求
 (乙)成立老人居家照護的志工服務隊
 (丙)加強就業輔導並提供失業補助金
 (丁)鼓勵生育並提供更好的育嬰服務
 (戊)全民醫療保險轉由民間企業承辦：(A)(甲)(戊) (B)(乙)(丁) (C)(乙)(戊) (D)(丙)(丁)。
- * (B) 18. 下列哪一項國際組織的宗旨在於降低成員國間的關稅壁壘，並促進國際間



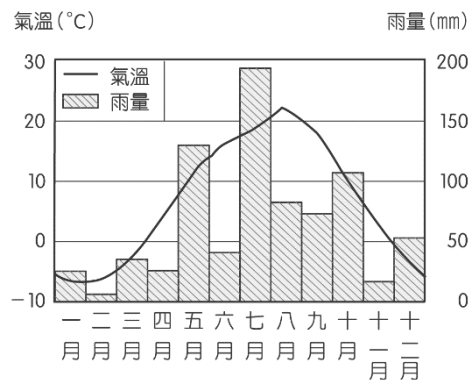
14. 甲地附近並無河川、水圳經過，但土地利用卻仍以水田為主，可見地勢最低。丁地附近雖有河川經過，且布滿水圳，但仍為旱園，故地勢應屬較高區域。
15. 圖中顯示田地分割極為零碎，灌溉水圳密布，水田屬於集約式農業，因此農地上農業人口密度必定較大，然該圖並未說明是全國普遍現象或某一區域之特殊現象，因此無法據以判斷該國之人口密度，「戊」農地農業人口密度較大、「辛」國家人口密度高，因此二個國家均有可能為正確答案。
16. 「庚」國人口密度雖有 118 人／平方公里，但農地上農業人口密度僅 1 人／平方公里，因此每一農民的單位勞力生產能力強，單位農民勞力報酬極高，應是以大量農業機械代替人力生產，具有高度機械化的特徵。
17. 由圖可知該國的出生率、死亡率均降低，代表該國進入老年型人口金字塔（低穩定階段），正面臨人口老化及未來勞動力不足的問題，所以應注意老年安養問題，並適度鼓勵提高出生率。
18. (A)世界糧農組織：聯合國糧食及農業組織 (Food and Agriculture Organization of the United Nations, 簡稱：FAO)，1945 年成立於加拿大魁北克市。1951 年，其總部由美國首都華盛頓遷往現今義大利羅馬。其主要職能包括幫助發展中國家實現農業，林業和漁業現代化發展，確保所有人獲得良好的營養，帶頭進行戰勝飢餓的努力。(B)世界貿易組織：(World Trade Organization, 簡稱：WTO) 世貿總部位於瑞士日內瓦，截至 2008 年 7 月 23 日，世界貿易組織共有 153 個成員。世界貿易組織是多邊貿易體制的法



的貿易往來？(A)世界糧農組織 (B)世界貿易組織 (C)國際貨幣基金會 (D)石油輸出國家組織。

- * (B) 19. 當代一位學者介紹南洋群島東部的一個小島嶼，指出因為這個島嶼面積小，也沒有重要物產，所以現代許多地圖根本忽略其存在。但是，在17世紀歐洲人出版的地圖中，這個島嶼總是佔著重要地位，比例被放大，島嶼被繪成比實際應有的大小還大得多。這個島嶼在17世紀時受到重視，最可能的原因是：(A)盛產鳥糞，是歐洲花卉肥料的主要來源 (B)出產荳蔻，是當時歐洲貿易的重要商品 (C)宗教聖地，是回教在南洋傳教的立足點 (D)盛產煤礦，是當時船隻的主要動力來源。

- * (B) 20. 老師上課時，介紹一個世界重要的乳酪產地，並出示當地的氣候圖(圖八)。該乳酪產地最有可能是下列何處？(A)丹麥的西蘭島 (B)日本的北海道 (C)紐西蘭的北島 (D)阿根廷的彭巴草原。



- * (C) 21. 一般而言，熱帶雨林區因高溫高濕，蚊蟲滋生，土壤養分淋失，以致農業不

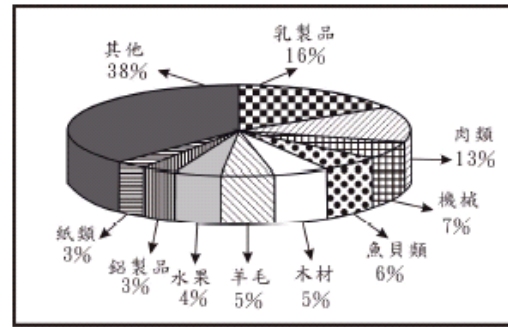
律基礎和組織基礎，是眾多貿易協定的管理者，是各成員貿易立法的監督者，是就貿易進行談判和解決爭端的場所。是當代最重要的國際經濟組織之一，其成員間的貿易額佔世界貿易額的絕大多數，被稱為「經濟聯合國」。(C)國際貨幣基金會：(International Monetary Fund, 簡稱：IMF) 於 1945 年 12 月 27 日成立，為世界兩大金融機構之一，職責是監察貨幣匯率和各國貿易情況、提供技術和資金協助，確保全球金融制度運作正常；其總部設在華盛頓。(D)石油輸出國家組織：(Organization of the Petroleum Exporting Countries, 簡稱：OPEC、油盟或油組)，成立的目的是協調和統一成員國石油政策和價格，確定以最適宜的手段來維護它們各自和共同的利益；並藉撇除有害和不必要的波動，策劃出不同的方法來確保國際石油市場價格的穩定。

19. 南洋群島地處低緯盛產香料作物，歐洲因地處中高緯度，食材喜以香料佐菜，味道較佳、口感較好，故香料才是歐洲人東航最原始目的。十七世紀初期，歐洲人前往印度大量購入棉花，因盛產香料的南洋群島原住民較少接受金銀做為貨幣，因此以棉布做為交換媒介，歐洲人才能在東南亞換得豆蔻、丁香、胡椒等香料作物。
20. 該地一月均溫低於 18°C ，且夏雨集中年雨量約為 775mm ，屬溫帶季風氣候類型，此外由氣候圖中的氣溫分布可以推斷出屬於北半球國家，因此選項(C)(D)可以先行排除；丹麥屬於溫帶海洋性氣候，年溫差較小、全年雨量分布較均勻，且1月月均溫高於 0°C ，亦不可能為答案。
21. 1602 年荷蘭人至印尼爪哇島之前，當地之馬來人早已開始種植水稻。荷蘭人殖民後，積



彰，人口稀少。然而，同屬熱帶雨林區的印尼爪哇島，卻是東南亞主要的水稻產地，人口密集。爪哇島農業比其他熱帶雨林區發達，和下列哪一項因素關係最密切？(A)在荷蘭殖民的時代，聯合東印度公司引進耕牛開闢許多農地 (B)地處重要海運中繼站，島民藉糧食作物交易可獲得優渥利潤 (C)覆蓋厚層的火山灰，成為各種農作物生長時所需的肥沃土壤 (D)氣候終年高溫多雨，提供各種農作物生長所需的熱量與水量。

- * (C) 22. 圖九是南半球某一國家1990年代主要輸出品品的比例圖。該國最可能是：(A)巴西 (B)阿根廷 (C)紐西蘭 (D)澳大利亞。



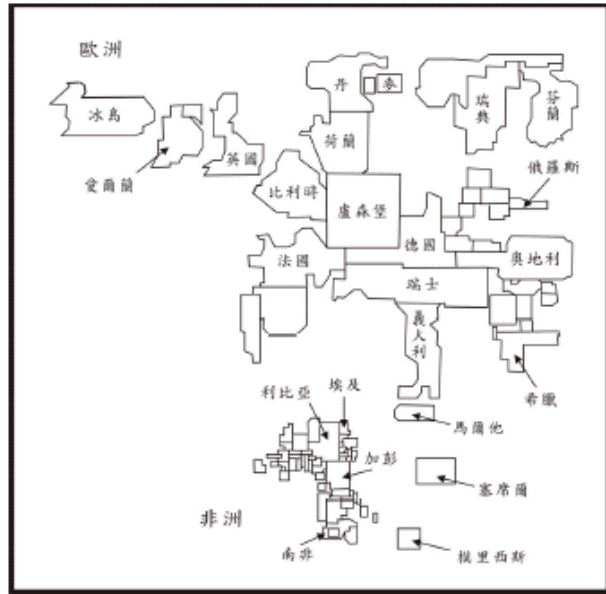
圖九

極發展商品式之熱帶栽培業，島民所種植之水稻等糧食作物僅供自給，並無交易。熱帶雨林氣候區終年高溫多雨，在正常的土壤化育過程中，雨林氣候區應發展成貧瘠的磚紅壤；爪哇島雖處熱帶雨林氣候區淋溶作用盛，但因處地處板塊交界帶火山活動旺盛，火山爆發後地表覆蓋厚層的火山灰富含金屬礦，提供了土壤的沃度，利於農業發展。

22. (A)巴西位處熱帶、副熱帶，主要的農產品輸出以熱帶栽培業的咖啡、蔗糖為主。(B)阿根廷主要有彭巴草原的精華區，其輸出品以小麥和肉類為大宗。(C)紐西蘭位於南半球的溫帶海洋性氣候區，由於地形、氣候以及人口密度等因素，使得第一級產業發展以牧業為主。(D)澳大利亞位處乾燥與半乾燥地區，主要輸出品以肉類為主，但也有商業性作物（例如小麥）的輸出。



- * (B) 23. 圖十為歐、非二洲國家某種社會發展指標的統計地圖，圖中各國的面積代表該項指標值的大小。該項指標最有可能為下列哪一項？
 (A) 國民平均壽命 (B) 平均國民生產毛額 (C) 15歲以上人口識字率 (D) 平均每人水資源擁有量。



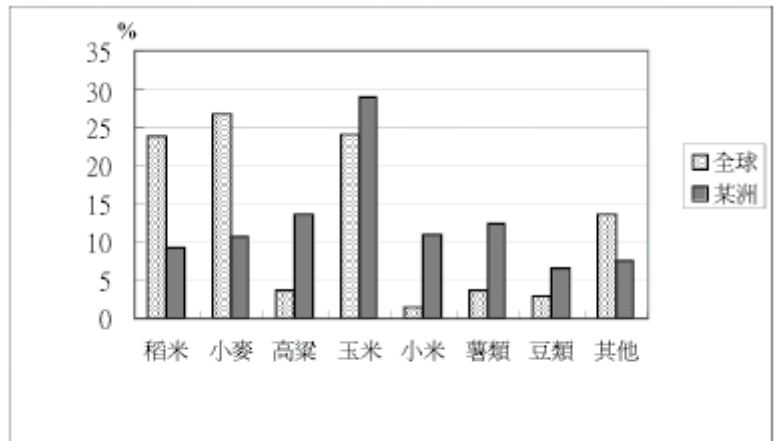
圖十

- * (D) 24. 加拿大東南部的聖羅倫斯河沿岸低地，位於北美五大湖工業區東側不遠處。該地最可能面臨下列何種環境生態問題？(A) 溫室效應，冰山溶解海水倒灌 (B) 地層下陷，夏季常遭洪水侵襲 (C) 熱島效應，森林林相快速改變 (D) 酸雨侵襲，土壤肥力明顯下降
- * (D) 25. 一位學者預測未來世界：「宗教強化認同，文化大斷層處處烽火」、「裂國與裂邦愈來愈多」。以下中國哪一個省級行政區，其行政區內的文化差異，最具有上述的文化衝突隱憂？(A) 內蒙古自治區 (B) 廣西壯族自治區 (C) 寧夏回族自治區 (D) 新疆維吾爾族自治區。

23. 由圖可知，歐洲各國的指標值均比非洲各國大，且人口數較少的國家（如盧森堡、瑞士、塞錫爾、模里西斯）與經濟發展程度較高的國家（如丹麥、荷蘭、瑞典、法國）指標值相對較大，另外有特殊資源的非洲國家如利比亞（石油）、加彭（木材）、東非塞席爾、模里西斯（觀光業），指標值也相對較大，由此可推知該指標為平均每人國民生產毛額。
24. 題幹已敘述聖羅倫斯河沿岸低地，位於「北美五大湖工業區東側不遠處」，因五大湖區東北為美國主要工業地帶，故空氣排污嚴重，以二氧化硫產生酸雨為主，加上該地區位於中緯度的西風帶上，容易將酸雨帶至工業區東側的聖羅倫斯河地區，造成土壤肥力明顯下降，可能性最大。(A) 溫室效應，冰山溶解海水倒灌，短時間不至形成；(B) 地層下陷，題幹為述及；(C) 熱島效應是指都市因吸熱物質多（如建築物、水泥柏油路面等），加上人為排熱，所造成市區溫度比郊區高，題意亦未述明。
25. 新疆（維吾爾族自治區、信仰伊斯蘭教）位在深入歐亞大陸的核心及東、西文化交流必經孔道，西側以信仰伊斯蘭教為主（含新疆），東側以儒家孔孟及佛教為主，因此新疆是不同種族、宗教交融過渡地帶。



- * (B)26.圖十一為1986年某洲與全球糧食消費結構的比較圖。該資料顯示的是哪一洲的糧食消費結構？(A)亞洲 (B)非洲 (C)大洋洲 (D)南美洲。



圖十一

- * (A)27.東非各國是世界上最貧窮的地區之一，近年來部分國家為改善生活，正嘗試利用國家公園發展觀光事業，這些國家公園吸引遊客的最主要條件為何？(A)豐富的動物資源 (B)多樣的族群文化 (C)壯觀的風成地形 (D)遠古的人類遺址。
- * (C)28.近年來，澳洲積極與亞洲國家建立民間或官方的友好關係。澳洲採取此一策略與下列哪一項因素的關係最密切？(A)國際恐怖主義活動趨向於全球化 (B)南北半球經濟發展的嚴重不均衡 (C)國際經濟體系趨向區域經濟整合 (D)國際衝突轉變為區域性戰爭威脅。
- * (A)29.臺灣每年的水資源總量約641億立方公尺，而利用到的總水量約只有207億立方公尺，僅佔總水資源的三分之一。此現象和下列臺灣河流的哪兩項特性關

26. 由圖中判斷，薯類是全球產量的3倍，且以玉米為主食，稻米、小麥的消費量較少，應為經濟較為落後地區（因欠缺肉類蛋白質，以食用澱粉類如樹薯等為主食），故(B)為非洲。(A)亞洲的稻米與小麥應該最大；(C)大洋洲以澳洲的小麥和其他地區的根莖類為主；(D)南美洲以玉米為主食。
27. 非洲乾燥氣候占地廣大，東非高原尤其是肯亞，因地勢高且涼爽，且擁有豐富的野生動物可吸引遊客，近年來為發展國家經濟，利用這些豐富自然資源，成立國家公園，藉以發展觀光事業，利用觀光收入來促進國家經濟發展。(B)東非地區族群人種以黑人為主，並非具有相當多樣的族群文化，且多樣的族群文化吸引力未必較大。(C)東非地區主要為熱帶莽原景觀，其風成地形並不顯著（乾燥地區較顯著）。(D)對於觀光產業的發展，遠古的人類遺址吸引力遠小於豐富的動物資源。
28. 由於全球化的發展，透過經濟上的區域整合愈來愈重要，國家之間以結盟方式尋求更好的競爭優勢，才能與各大工業國競爭，例如歐盟的整合、北美自由貿易區的整合等。紐、澳位置接近亞洲，遠離歐盟，促使澳洲明顯感受到孤立的情況愈趨明顯，近年採取「脫歐入亞」政策，和崛起的太平洋國家結盟比依附歐盟更為有利。
29. 臺灣地形屬新褶曲造山運動地帶，坡陡水急降雨多急流入海，且因河川短小流急又洪枯變化大，造成可利用的水資源只有三分之一。



係最密切？甲、流量變化大；乙、河床坡度大；丙、流域面積小；丁、泥沙含量多。(A)甲、乙 (B)甲、丁 (C)乙、丙 (D)丙、丁。

◎表四是甲、乙、丙、丁、戊五個國家1991年至1993年國民年金、健康保險等支出占國內生產毛額(GDP)的比率。請問：

表四

單位：%

國別 年度	甲	乙	丙	丁	戊
1991	10.8	12.0	25.0	27.1	19.6
1992	11.5	12.7	26.3	28.2	22.3
1993	11.7	13.6	27.6	29.6	22.3

- * (B)30.表四中的丁國，最可能位於下列哪一個地區？(A)東亞 (B)西歐 (C)南非 (D)北美。
- * (D)31.從表四的資料判斷，丙、丁、戊三國在1991年至1993年間的經濟和社會發展情況，下列敘述何者最有可能？(A)貧窮人口逐年增加 (B)經濟成長率穩定上升 (C)國內生產毛額逐年增加 (D)社會福利支出排擠其他支出。

30. 國民年金與健康保險愈高，代表經濟發展程度愈高，表中丙、丁這兩項指標佔國內生產毛額的比率相當高，故屬於高度發展的已開發地區，(B)西歐和(D)北美皆屬之，西歐的社會福利制度又明顯高於北美地區，因此丁為西歐，丙為北美，故答案選(B)。

31. 若國民年金、健康保險等支出所占比率愈高，則其他支出相對會受到排擠，故其比率必定相對減少。