

大學入學考試中心

109學年度學科能力測驗試題

社會考科地理試題解析

新北市立錦和高級中學地理科教學團隊研製

版權所有・僅供教學



- * (C) 32. 地理學中的區位理論，通常假設地表為均質，以直線距離劃設空間範圍，但在真實生活中，依規劃的需求，範圍多以路徑距離為劃設的依據。依上所述，圖5中有甲、乙、丙、丁四個分析結果，若咖啡店開設的重要選址條件是「徒步300公尺內有停車場」，下列何者最可能是距離咖啡店候選點徒步300公尺內的範圍？(A)甲 (B)乙 (C)丙 (D)丁。

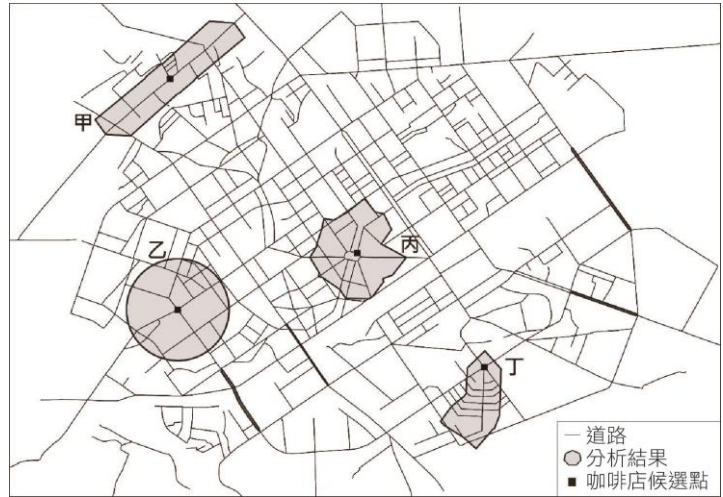


圖 5

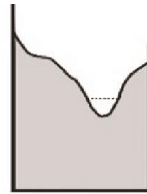
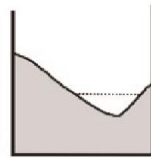
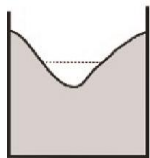
- * (D) 33. 下列四個選項為一條河流中不同河段的橫剖面示意圖。氾濫平原最常出現在哪個橫剖面所代表的河段？

(A)

(B)

(C)

(D)



- * (D) 34. 今日許多高科技電子產品的製造廠商採取先接訂單再製造的「即時生產模式」，避免大量庫存，同時提高企業在研發與行銷上的投資，以追求產品功能或型態樣式的持續創新，藉助媒體與網路管道的大量宣傳，推陳出新以吸引消費者購買產品。上述研發、製造與行銷策略的採用，與下列哪項因素的關係最為密切？(A)海外低廉的勞力降低生產成本 (B)科技產業因群聚效益日趨聚集 (C)貿易自由化與區域整合的發展 (D)市場變動與產品生命週期縮短。

32. 丙、以咖啡店為中心，沿著道路向外延伸 300 公尺，循最短路徑（有道路處）為原則，因受道路長短的影響，故形狀呈現不等邊的多邊形。甲、丁則是部分距離超過題意設定，乙為均質環境條件下等距的範圍，故選(C)丙。

33. (D) 氾濫平原為河流老年期地形，常位在河流下游，故河道較為寬廣，流域內地形相對高度較小且地勢低平。(A)、(B)、(C)三個橫剖面地形起伏較大，容易出現在河流的中、上游河段。

34. 「即時生產模式」主要是因應高科技產品的生命週期短及市場變動大，為避免大量庫存，分散風險所採取的策略，故廠商以先接單再生產，方便彈性調配人力與設備，故選(D)。(A)與勞力密集性的傳統產業區位移轉相關；(B)產業群聚的優點是資源共享，降低外部成本而非降低庫存；(C)可豁免或降低關稅，但不一定能減少庫存。



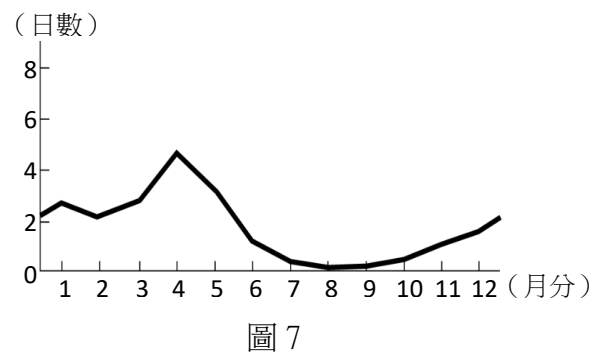
- * (C) 35. 圖 6 為美國四個區域分區圖，表 3 為 2010 與 2018 年美國四區的人口統計表（表內數字為人口數）。對應到美國近年來人口數量成長最多的區域，該區除歐裔外，其他主要族群最可能為下列何者？(A)非裔、原住民 (B)亞裔、原住民 (C)非裔、拉丁裔 (D)亞裔、拉丁裔。



表 3

年分 分區	2010	2018
南	114,867,066	124,753,948
西	71,389,719	77,256,225
中西	66,974,749	68,308,744
東北	55,380,645	56,111,079

- * (D) 36. 圖 7 為 1950 年代以來，中國北京某種天氣現象每月平均日數分布圖。該天氣現象最可能為下列何者？(A)降雪 (B)豪雨 (C)焚風 (D)沙塵暴。



37-38 為題組

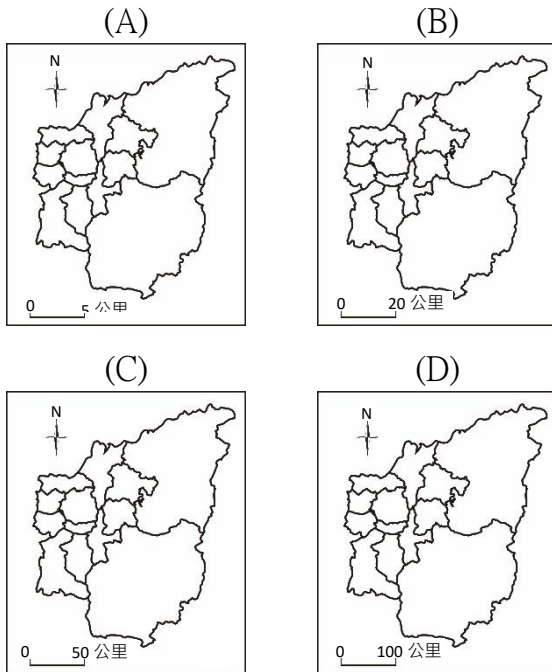
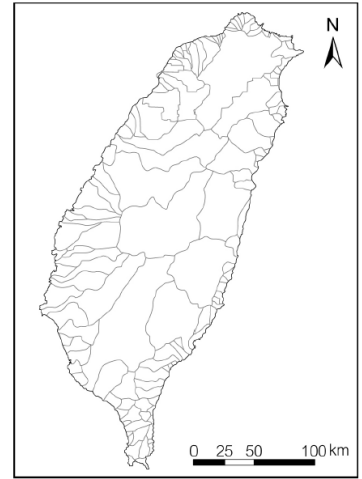
◎「大健康產業」是基於維護與促進民眾健康而形成的產業，主要提供醫療衛生、營養保健、健身休閒等商品、資訊及勞務服務，多在同時符合經濟發達、人數眾多，且人口結構趨向高齡化三項條件的地區進行投資。請問：

- * (A) 37. 該產業主要的投資地區，其人口發展最可能落在人口轉型模式中的哪個階段？(A)低穩定階段 (B)高穩定階段 (C)早期擴張階段 (D)晚期擴張階段。
* (D) 38. 該產業在下列何地最具發展潛力？(A)西亞 (B)南亞 (C)東南亞 (D)東北亞。

35. 表格中增加最多為南部地區，而南部地區是從中部大平原至墨西哥灣和美墨邊界，此區主要以早期種植棉花的非裔族群，以及因地緣鄰近來自墨西哥的拉丁裔為主，故選(C)。原住民主要分布於美國內陸的保留區，亞裔則分布於西部的加州較多。
36. 該現象發生次數以春季最多，夏季最少，故可判斷應是春季天氣系統較不穩定，外加西北地區有豐富沙源的沙塵暴，故選(D)。(A)降雪，應以冬季為主；(B)豪雨，以夏季最多；(C)焚風，北京冬季來自燕山北側的寒風，越山後不至於易形成乾熱的風。
37. 題意「經濟發達、人口結構趨向高齡化」應為人口出生率、死亡率皆低，人口替代不足、人口結構以老年為主，此時對健康照護需求也最大的低穩定階段，故選(A)。(B)高穩定階段，高死亡率、高出生率，人口數低且平均壽命短；(C)早期擴張階段，高出生率、死亡率已開始下降，但總人口仍以幼年為主；(D)晚期擴張階段，低死亡率、出生率已開始下降，人口以壯年為主。
38. 亞洲具備經濟發達、人數眾多且高齡化的地區以東北亞的日、韓（台）為主。(A)西亞、



- ◎右圖是臺灣本島以某個指標所繪製的主題地圖。請問：
- * (A) 39. 該指標最可能為下列何者？(A) 河川流域 (B) 都市影響圈 (C) 土地使用分區 (D) 原住民族傳統領域。
 - * (B) 40. 下列是四幅臺灣某縣級行政區域簡圖，從圖判斷，下列何者的比例尺標示正確？



41-42 為題組

- ◎歐洲許多高山擁有壯麗的山岳冰河景觀，往往成為熱門的登山健行景點。在進行登山健行活動之前，最好事先瀏覽相關圖資。圖 9 為歐洲某處山岳冰河的衛星影像圖，除了山脈陰影之外，淺白色為冰雪堆積，圖 10 為同一地的等高線地形圖，兩圖中的甲、乙、丙、丁為四種冰河地形。請問：

(B) 南亞、(C) 東南亞的經濟均較不發達，人口結構也以壯年人口為主。

39. 圖中區塊東西分向，且由山地延伸至海岸線，符合台灣河川短小且東西分流的水文特徵故選(A)。(B) 都市影響圈，應是以六都等主要、次要都市為核心向外擴散；(C) 土地使用分區，指的是將土地劃分成不同類型，例如：住宅區、商業區、工業區、政府用地等等，圖中區塊明顯不符；(D) 原住民族傳統領域，多集中於山地才對。
40. 該行政區東半部鄉鎮劃分比西部面積大，應是為位居山區的南投縣，另從上一題附圖的比例尺研判，以(B) 選項較適中。(A) 的比例尺太大，行政區的東西寬僅約 15 公里；(C) 邊長 150 公里、(D) 邊長 300 公里兩者的比例尺皆太小。



圖 9



圖 10

* (A) 41. 圖 9 位於圖面右側方框中的兩條深黑色曲線，最可能是下列何者？(A)堆積的冰磧 (B)流動的冰水 (C)崩塌的落石 (D)磨蝕的槽溝。

* (A) 42. 假若全球暖化持續加劇，在相對較短的地形演育期間內，圖中哪些區域可能會出現湖泊？(A)甲、乙 (B)甲、丙 (C)乙、丁 (D)丙、丁。

43-45 為題組

◎圖 11 是世界某五個都市的分布圖。請問：

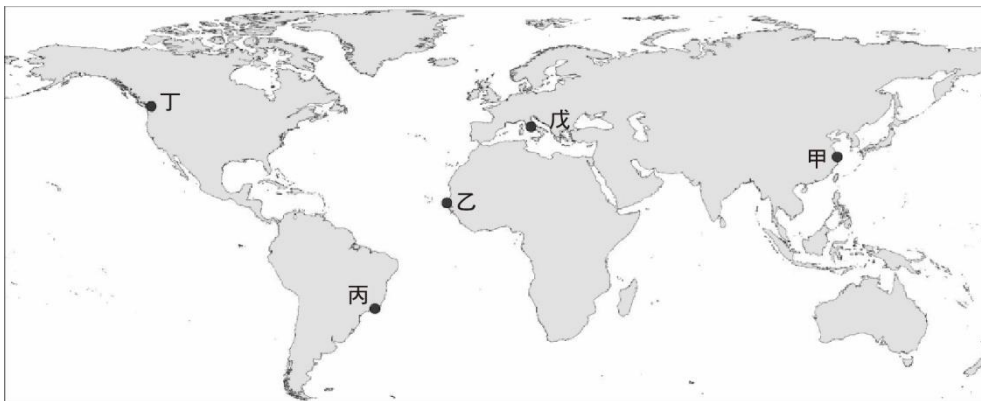


圖 11

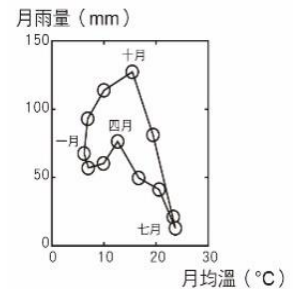


圖 12

* (D) 43. 圖 11 中哪兩個都市的居民，其主要宗教信仰最為類似？(A)甲乙 (B)甲戊 (C)乙丁 (D)丙戊。

41. (A)冰河侵蝕後所產生的岩屑冰磧，隨著冰河流動向下游搬運，這些冰磧物質在冰河表層堆積，並且和冰河槽流路一致。(B)冰河流動的冰水，通常位於冰河底部，表層不易看見；(C)圖中無法判斷是否為崩塌的落石；(D)磨蝕一般發生於冰河底部與兩側，須等冰河融化露出後才能看得到。

42. 由等高線判斷地勢低窪處，在冰河消融後易積水形成湖泊。甲、冰河槽形成槽湖；乙、冰斗形成冰斗湖，故選(A)甲、乙。丙、在刃嶺旁側邊陡坡、丁、為刃嶺（分水嶺），兩處皆為坡度陡不易積水成湖。

43. 丙、為巴西聖保羅、戊、為義大利羅馬，兩者皆是以天主教為主，故選(D)丙戊。甲、為中國上海以大乘佛教、道教為主；乙、為西非塞內加爾的達卡以伊斯蘭教為主；丁為加拿大溫哥華以基督新教為主。



- * (D) 44. 圖 12 是某地的月均溫與月雨量的散布圖，該地最可能與圖 11 中哪個都市位於同個氣候區內？(A)甲 (B)乙 (C)丁 (D)戊。
- * (A) 45. 位於丁地的某跨國連鎖咖啡公司，其咖啡豆來自東非馬拉威，經由農場收成處理後，在東非最佳深水港納卡拉裝船運往丁地。若航運路線要避開西風漂流，且又採取最短路徑，透過圖 11 判斷，該路線最可能為下列何者？(A)蘇伊士運河→地中海→大西洋→巴拿馬運河 (B)蘇伊士運河→地中海→巴拿馬運河→大西洋 (C)巴拿馬運河→大西洋→蘇伊士運河→地中海 (D)巴拿馬運河→大西洋→地中海→蘇伊士運河。

50-51 為題組

- ◎ 諾貝爾經濟學獎得主史迪格里茲 (Joseph E. Stiglitz) 於 2007 年出版《世界的另一種可能》一書，書中提到：「全球化的隱憂是，它可能會創造擁有窮人的富國」，因為「即使在最先進的開發國家……，貧者卻經常連自保都有問題」。請問：
- * (B) 50. 依據題文的書中引文，下列何者最接近題文所指涉的全球化現象？(A)富裕國家的跨國公司過度擴張，支配貧國經濟 (B)國內平均所得雖提升，但所得分配卻更加惡化 (C)經濟雖快速成長，但環境資源同時遭嚴重破壞 (D)各國僅關注經濟成長，但卻忽略調和公私利益。
- * (C) 51. 表 4 是甲、乙、丙、丁四個美洲國家的基本資料。依據表中資料判斷，上文所稱發生全球化現象的國家，其發展程度最可能與下列哪個國家相同？(A)甲 (B)乙 (C)丙 (D)丁。

表 4

資料 (年度) 國家	都市化程度 (2019)	死亡率 (2018)	二級產業產值 占總 GDP 比 (2017)	HDI 指數 (2018)
甲	95.4%	9.4‰	24.1%	0.808

44. 圖中一月低溫多雨，七月高溫少雨，應是北半球夏乾冬雨的溫帶地中海型氣候區，故選 (D) 戊義大利羅馬。(A)甲，溫帶季風氣候區；(B)乙，熱帶莽原氣候區；(C)丁，溫帶海洋性氣候區。
45. 從東非走海運到美國西岸，且要避開西風漂流，就需避開南半球大陸南方經過。因此，運送路線從東非海岸出發，從紅海經過蘇伊士運河到達地中海，再往西穿越大西洋，然後再經過巴拿馬運河進入太平洋，最後沿著美國西岸北上，即可抵達目的地。
50. 題意「擁有窮人的富國」、「在最先進的開發國家，貧者連自保都有問題」，可知全球化最大的隱憂是富者恆富、貧者愈貧導致的分配不均等問題，故選(B)。(A)題意強調的是國內之間的貧富差距問題，而非國與國之間的貧富差距；(C)、(D)無法判斷。
51. 全球化現象的國家多為發展程度最高的國家，HDI 值也會較高，因受製造業外移的影響，導致國內就業機會喪失，貧者難以自保，二級產業產值較低，故選(C)。表中甲為烏拉圭、乙為阿根廷、丙為美國、丁為薩爾瓦多。

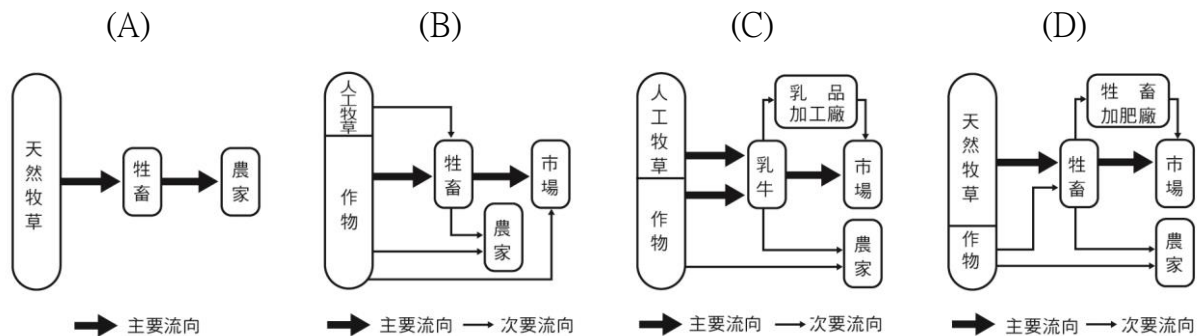


乙	92.0%	7.5‰	28.1%	0.830
丙	82.5%	8.2‰	19.1%	0.920
丁	72.7%	5.8‰	27.7%	0.667

52-53 為題組

◎據報載，根據紐西蘭科學家的研究，牛羊等家畜打嗝或放屁所釋放的甲烷會造成全球暖化問題。為減緩甲烷排放量，該國科學家積極研發可以抑制家畜打嗝且對家畜無害的藥物或食物。請問：

* (C) 52. 下列示意圖包括游牧業、酪農業、放牧業、混合農業等四種生產方式。針對文中提到牲畜排放甲烷的問題，若僅考慮單位面積的經營集約程度，下列何者帶來的暖化效應可能最大？



* (C) 53. 假若畜牧業者可以免費的方式取得該藥，並且成功地讓國內所有家畜解決打嗝的問題。從經濟學的角度出發，家畜服用新藥對於畜牧業生產面的廠商成本線與社會成本線將造成何種影響？(A) 廠商成本線上移，接近社會成本線 (B) 廠商成本線下移，接近社會成本線 (C) 社會成本線下移，接近廠商成本線 (D) 社會成本線上移，接近廠商成本線。

◎ 出生在南投的詩人陳千武，在二次大戰期間曾以「志願兵」的身分參與戰事；這段經歷成為他創作〈信鴿〉一詩的靈感。此詩的最後一段寫道：

我回到了，祖國
我才想起
我底死，我忘記帶了回來
埋設在南洋島嶼的那唯一的我底死啊
我想總有一天
一定會像信鴿那樣

52. 四種農業類型分別為(A)游牧業、(B)混和農業、(C)酪農業、(D)放牧業。若僅考慮單位面積經營集約程度，則依序為：(C)酪農業 > (B)混合農業 > (D)放牧業 > (A)游牧業。

53. 「畜牧業者可以免費的方式取得該藥」判斷，廠商的私人成本不受影響，故廠商成本線不變。「成功地讓國內所有家畜解決打嗝的問題」可知，釋放的甲烷減少，因此外部成本減少，社會成本線下移(社會成本=私人成本+外部成本)，故選(C)。(A)(B)選項私人成本線並未移動；(D)社會成本線移動方向相反，會下移。



帶回一些南方的消息飛來

根據上述內容，請問：

- * (D) 54. 陳千武在參與戰爭時，最可能遭遇過下列哪種經歷？(A) 持續橫越高山相間的縱谷，勇渡河水，無懼奔流入海的長河 (B) 無畏不斷吹襲而來的黃沙，頂風前行，不管是綠洲還是蜃樓 (C) 緊盯草原深處的覓食獅群，匍匐前進，緊握槍枝並眼觀四方 (D) 穿越一片茂密的熱帶雨林，披荊斬棘，開闢出一條林間小徑。
- * (B) 55. 關於當時臺籍「志願兵」的討論，下列何者正確？(A) 在志願兵實施以前，臺灣人即有服兵役的義務 (B) 志願兵是皇民化運動中，戰爭動員的一種方式 (C) 志願兵沒有條件限制，只要願意為國犧牲即可 (D) 考量地緣及民族因素，志願兵大多被派往華北。
- ◎ 某一時期起，商人從外地運來棉花，農家女子在家將棉花紡成棉紗，再織成棉布。農民家庭男耕女織的運作模式日漸明顯，而商人定期收集棉布，運往城鎮染色、整平，即可上市販售。請問：
- * (A) 57. 題文中經濟活動的運作，最符合下列哪個概念？(A) 空間分工 (B) 垂直整合 (C) 人力資本累積 (D) 城鄉供需互補。

58-59 為題組

- ◎ 某一時期，一艘駛向中國的外國船隻在冬天航行時，遇上暴風，漂流至中國東南沿海某地，船中乘客獲救，送往官府途中，險被民眾毆殺。這位乘客懂漢字，在與中國官員筆談後，得知該地長期以來受到外國海盜侵擾，村民誤認他是海盜，所以群情激憤。這個區域除了經常有外國海盜騷擾外，且因環境條件不佳，謀生不易，導致人口常往海外移出。請問：
- * (C) 58. 題文中的這位乘客最可能是下列何者？(A) 日本派到長安的遣唐使者 (B) 元

-
- 54. 詩句所述「南洋島嶼」即為南洋群島（東南亞），此區以熱帶雨林氣候為主，故選(D)。(A) 中國西南部地區，橫斷山脈的地形樣貌，應熱帶季風氣候；(B) 沙漠氣候；(C) 熱帶莽原氣候。
 - 55. (A) 志願兵制度實施以前，臺灣人只能當軍伕，在戰場上從事雜役的工作，直到 1945 年初太平洋戰爭爆發後，因為人力吃緊，總督府實施徵兵制，臺灣人才開始服兵役；(C) 條件限制嚴格，只有少數人能擔任志願兵；(D) 志願兵大多前往南洋作戰。
 - 57. 根據「商人從外地提供原料、農家在家紡紗、城鎮染整」等，乃透過不同地方的人，以分工方式完成衣服的製造過程，因此具有空間分工的概念，故選(A)。(B) 垂直整合，指同一個產業，經過上下游的整併，擴大經營規模；(C) 無法判斷；(D) 僅顯示產業的分工關係，無法看出城市與鄉村之間的互補依賴關係。
 - 58. 由題意判斷應與深受中國文化影響的朝鮮、日本、越南等國家有關，另由「該地長期受外國海盜侵擾」、「環境條件不佳，謀生不易，導致人口常往海外移出」，應為明代以後的倭寇為患，故選(C)。(D) 冬季吹東北季風，越南士人不可能搭船北上。



代到泉州的阿拉伯商人 (C)明代到中國遊歷的朝鮮士人 (D)清初到北京考試的越南士人。

- * (B) 59. 當地人口常往海外移出，最可能與其具有下列哪項環境特色有關？(A)位處缺水區，環境負載力不足 (B)山多平原少，農業生產力較低 (C)多峽灣海岸，外來船隻易停泊 (D)針葉林廣布，造船材料較豐富。

60-61 為題組

◎地圖幫助人們以空間的方式來理解世界中的事物、概念、情況、過程或事件。圖 13 為一幅繪製於某時期的世界地圖，蘊含著當時人對世界的觀察與理解。圖面正中間的區域，一直是東西文化交流頻繁之地，在現代也具有重要的戰略地位。2018 年甲處



圖 13

水域的鄰近各國召開會議並簽署公約，以確保各國的政治、經濟利益。請問：

- * (C) 60. 根據圖 13 中出現的陸塊及其形狀、大小、方位等，推論這幅世界地圖最可能繪製於何時？(A)八世紀，阿拉伯帝國從北非進入伊比利半島後 (B)十一世紀，羅馬天主教廷發動十字軍運動之時 (C)十六世紀，哥倫布最後一次探訪美洲新大陸後 (D)十九世紀，歐洲的列強協議瓜分非洲大陸之時。
- * (D) 61. 題文提及的甲處戰略地位，最可能指的是下列何者？(A)歐盟政治軍事勢力向東擴張的跳板 (B)控制俄羅斯出入地中海的航道扼塞 (C)北美西岸與亞洲大圓航線必經之處 (D)當地蘊藏豐富的石油與天然氣資源。

62-63 為題組

◎十五世紀中葉，葡萄牙人在大西洋東部海域馬德拉群島開始種植甘蔗；十六世紀中

59. 中國東南丘陵的閩、浙沿海地區，因山多平原少人口眾多農產不足，環境負載壓力大，因此外移謀生人口眾多，故選(B)。(A)東南丘陵為副熱帶季風氣候，降水豐沛較沒缺水問題；(C)東南丘陵以谷灣式海岸為主；(D)針葉林分布於高緯度或高山地區。
60. 此地圖上已有美洲出現，但僅止於新大陸的東半部，而中美洲南端的麥哲倫海峽則未標示（麥哲倫海峽是 1520 年被發現），因此可知此圖應是繪於 1520 年之前，哥倫布探訪美洲大陸不久後的十六世紀，故選(C)。
61. (D) 甲的西側為裏海，因蘊藏豐富的石油與天然氣豐富，成為重要的戰略位置，2018 年由俄羅斯、伊朗、哈薩克、土庫曼、亞塞拜然簽署《裏海法律地位公約》，以解決石油、天然氣資源爭議的問題。(A)歐盟政治軍事勢力，尚未及於中亞一帶；(B)為黑海，西亞和東歐被黑海分隔開，從黑海經過博斯普魯斯海峽及達達尼爾海峽即可到達地中海；(C)不會經過裏海附近。




葉，葡萄牙殖民巴西以後，又在當地發展蔗糖產業。由於蔗糖屬於勞力密集產業，於是引進大量外來勞工。請問：

- * (A) 62. 這些外來勞工主要為下列何者？(A) 非洲黑人 (B) 華工 (C) 歐洲罪犯 (D) 北美印第安人。
- * (B) 63. 題文中的葡萄牙人選擇發展蔗糖產業之區位考量，最可能為下列何者？(A) 產地鄰近美國，加上蔗糖不耐久放，故蔗糖需快速運到市場 (B) 母國地處溫帶，國內並不適合種蔗，故尋找熱帶殖民地種蔗 (C) 產地水力充沛，地勢高低落差明顯，故可提供製糖電力資源 (D) 母國人力不足，多投入馬鈴薯生產，故需要到海外招工種蔗。

64-66 為題組

◎十九世紀前期，張三從寧波來艋舺採購樟腦，計畫運回浙江、上海銷售，同時也運來綢緞、布帛等貨品來臺銷售。請問：

- * (C) 66. 學生欲了解當時樟腦生產的事蹟，規劃實察點位。若考量最近鄰原則，下列四張臺灣樟樹砍伐分布圖（灰底為樟樹砍伐區域）中，何者最可能包含了當時製腦樟樹的砍伐地點？



62. (A) 葡萄牙、西班牙殖民中南美洲帶來了傳染疾病，導致印地安人大量死亡而勞動力不足，當美、歐、非三角貿易興起，自非洲引進黑人作為勞力來源。(B) 中國於十九世紀中葉後始輸出華工；(C)、(D) 不足以應付大量勞力。
63. 甘蔗為熱帶栽培業，葡萄牙位於溫帶氣候區，並不適合種甘蔗，故選(B)。(A) 蔗糖運回歐洲銷售非美國；(C) 製糖業的工業區位選擇並以勞力為主；(D) 南美洲勞力不足，因此須從事三角貿易自非洲招工。
66. 「艋舺」是北部的樟腦集散地，故樟腦開發地區亦以北部丘陵地區為主，由經緯線判讀(A)位於南部、(B)位於中部、(C)位於北部、(D)位於南部，故選(C)。



67-69 為題組

◎資料一：屏東種植紅豆的農民，過去為避免鳥害造成農損，會利用毒餌造成小型鳥類死亡，進而導致檢食的老鷹跟著中毒。近來因維護生態環境，農夫改變耕作方式，在播種期不毒鳥、採收時不用落葉劑，以新創農業的方式建立「老鷹紅豆」品牌以及產銷履歷。雖然生產紅豆的成本上升，但有效提升消費者對產品的評價，使市場銷售價格與數量都大幅提升。老鷹紅豆的製作地區主要在屏東東港和萬丹一帶。

資料二：萬丹聚落形成於明末，曾在清代民變中扮演重要角色，朱一貴事件時，粵籍義民即在「萬丹社」的上帝廟誓師起義。「社」在清代一般是指「熟番」村落，但並非自古如此。例如，鄭氏時期，主政者推行屯田，就曾用「社」作為屯墾村落之名；當時的軍備圖則分別以「番社」和「民社」來標示「番」、「漢」聚落。在清朝治臺初期的地圖中，即有「後勁社」、「左營社」等和「熟番」無關的村落名，「萬丹社」也是如此。根據上述兩則資料，請問：

- * (B) 67. 題文中的新創農業型態，較適合以下列哪兩個概念說明？甲、生態農業 乙、粗放農業 丙、休閒農業 丁、精緻農業：(A) 甲乙 (B) 甲丁 (C) 乙丙 (D) 丙丁。
- * (B) 68. 根據題文，以下何者最可以表現屏東紅豆由傳統產銷方式到新創品牌後，其市場供給與需求的變動情形？(A) 供給線上移，需求線上移，且前者移動幅度大於後者 (B) 供給線上移，需求線上移，且後者移動幅度大於前者 (C) 供給線上移，需求線下移，且後者移動幅度大於前者 (D) 供給線下移，需求線上移，且前者移動幅度大於後者。
- * (C) 69. 我們一般認為「社」是指「熟番」村落，但萬丹「社」的出現，顯然提供了

67. 甲、生態農業，以不使用化學肥料、農藥，保護環境達到生物多樣性與永續發展為主要概念，與「因維護生態環境、播種期不毒鳥、採收時不用落葉劑」相符。丁、精緻農業，則是運用科技、結合現代化的經營管理方式，與建立「老鷹紅豆」品牌以及產銷履歷，用以提高農產品的附加價值不謀而合，故選(A)甲丁。丙、休閒農業，結合農業活動與休閒遊憩，利用田園景觀、農家生活，提供消費者休閒體驗的方式；丁、粗放農業，商業化農業型態不易做到粗放經營。

68. 由「有效提升消費者對產品的評價」可知需求線應向上移；而「市場銷售價格與數量都大幅提升」得知需求量使得供給量增加、供給線亦向上移，但其變化幅度應小於需求線變化幅度，因為成本價格較高，故選(B)。(A)前者移動幅度小於後者；(C)需求線上移；(D)供給線上移，且前者移動幅度小於後者。

69. 鄭氏時期採屯田制以獲取穩定的軍糧，將軍營所在地名冠上「營」，如新營、柳營、林鳳營等，屯墾的村落冠上「社」，如萬丹社等，與原住民部落「社」名稱相符但無關，故選(C)。(A)、(B)資料中僅提及粵籍義民於萬丹社起義，並無粵民開發或義民形象之敘述；(D)與鄭氏開發命名相關，無關民間信仰。



另一種看法。就題文來看，萬丹社的例子最適合從下列哪一歷史脈絡來解讀？(A)粵民開發與熟番地權的關係 (B)義民形象被塑造的演變過程 (C)鄭氏在當地開發的歷史痕跡 (D)民間信仰與地名命名之關聯。

70-72 為題組

◎比利時是由多語言族群組成的聯邦體制國家，包括法語、荷語和德語等語言族群，其分布區域主要與鄰國居民通用的語言有關，圖 14 為該國的語言分區圖。這三種語言分布彼此明顯區隔，並成為該國自治行政區劃分的重要依據之一。比利時之所以成為多語言族群的國家，與其特殊的歷史發展關係密切。比利時原與荷蘭及盧森堡組成所謂的低地國，但經過十六、十七世紀的連年戰爭，其中的十七個省分分裂，最後形成比利時以及荷蘭兩個國家。由於族群和語言因素，現今比利時沒有任何一個政黨可以橫跨不同語言區而獲得全國性的支持，甚至在 2010 年國會大選之後，比利時各政黨的組閣談判長達 541 天，最後才順利組織政府，成為全球在和平時代裡無政府時期最長的國家。請問：

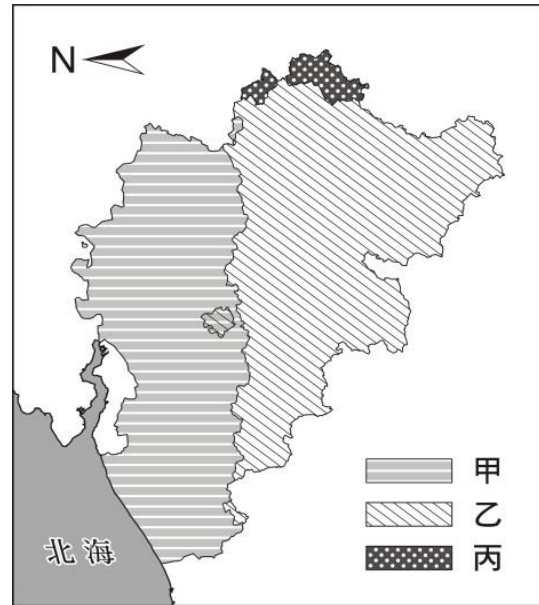


圖 14

- * (A) 70. 依據題文資訊，低地國十七個省分分裂後，促成某些省分成立荷蘭共和國的戰爭最可能是下列何者？(A)三十年戰爭 (B)英法七年戰爭 (C)拿破崙戰爭 (D)普法戰爭。
- * (D) 71. 圖 14 的甲、乙、丙最可能分別為下列哪種語言的分布區？(A)法語、德語、荷語 (B)法語、荷語、德語 (C)荷語、德語、法語 (D)荷語、法語、德語。
- * (A) 72. 依據題文資訊判斷比利時近二十年的政黨和政府體制，下列推論何者最適當？(A)其政黨體制為多黨制，且無任何政黨在國會席次過半 (B)其政黨體制

70. (A)此區原稱「尼德蘭」，1648 年三十年戰爭後，西班牙承認荷蘭獨立。比利時則曾屬奧地利所有，維也納會議後割讓給荷蘭，但因兩國語言、宗教皆不同，故於 1830 年法國七月革命後獨立。(B)英法七年戰爭發生於 1756 ~ 1763；(C)拿破崙戰爭為 19 世紀初；(D)普法戰爭為 1870 年，與題意 16、17 世紀的戰爭年代不符。
71. 比利時北邊與荷蘭為鄰，南邊接壤法國，東邊鄰近盧森堡及德國。因此比利時北邊語言分布以荷語為主，南邊以法語為主，東邊則是德語分布區，故選(D)。
72. 從「現今比利時沒有任何一個政黨可以橫跨不同語言區而獲得全國性的支持」可知該國政黨體制為多黨制，且無任何政黨在國會席次過半，故選(A)；(B)若為一大黨多小黨，則組閣談判時間一般不會歷時過久；(C)無法判斷是否混合制；(D)總統制的內閣應由元首任命。



為一大黨多小黨制，但該大黨席次未過半 (C)其政府體制為由國家元首和內閣共享行政權的混合制 (D)其政府體制為國家元首同時為最高行政首長的總統制。

