

大學入學考試中心
108學年度學科能力測驗試題

社會考科地理試題解析

新北市立錦和高級中學地理科教學團隊研製
版權所有・僅供教學



* (C) 26. 下列哪些臺灣鄉鎮市區級地名的變遷，最能反映解嚴後政府及社會對多元族群及其文化的尊重態度？甲、吉野→吉安 乙、三民→那瑪夏 丙、番社→東山 丁、吳鳳→阿里山 戊、紅毛→新豐：(A)甲乙 (B)甲丙 (C)乙丁 (D)丁戊。

* (B) 27. 圖 1 為某地區的等高線地形圖。該地在某一次暴雨時形成了多處的崩塌地，圖中陰影部分為崩塌所在。若於暴雨後在圖中的甲、乙、丙、丁四個點進行水質採樣，則何處所採樣本的含沙量最高？(A)甲 (B)乙 (C)丙 (D)丁。

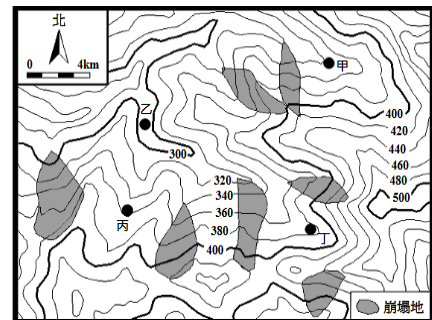


圖 1

* (C) 28. 某一地區民間音樂的特點是，帶有淡淡懷鄉、憂愁的色彩，重唱形式多，唱法放鬆，音色柔和抒情。一個音樂家評論：「原住民族提供基本的五聲音階模式，並喜用單調的擊鼓聲作伴奏；殖民者帶來和弦的概念及西班牙慣用的節奏，黑人則增加了變化音的修飾。」該地區最可能是：(A)歐洲伊比利半島 (B)非洲喀拉哈里盆地 (C)南美洲拉布拉他平原 (D)北美洲密士失必三角洲。

* (A) 29. 2018 年美國與中國貿易爭端成形，某財經雜誌以「美國製造，臺灣紡織業者看見藍海」為題，闡述此時正是臺灣紡織業者從中國撤資前往美國投資設

26. (甲)吉野→吉安：早期漢人稱為「七腳川」，日治時期被命名為「吉野」，戰後因具濃厚日本殖民色彩而更改為「吉安」；(乙)三民→那瑪夏：高雄市那瑪夏區原為三民鄉（意指民族、民權、民生三聚落），近年因原住民族自我認同意識抬頭於 2007 年 12 月 10 日改採「那瑪夏」之名，反映嚴後政府尊重多元族群文化的態度。(丙)番社→東山：臺南市東山區是西拉雅族的居住地，位處於臺南東方的山地區，日治時期舊名為番社，戰後因名稱不雅便因其地緣更名為東山。(丁)吳鳳→阿里山：日治時期日本「理蕃」政策下吳鳳神話的命名，1987 年 9 月 9 日，鄒族人發起遊行，要求替吳鳳鄉更名，其後內政部正式將吳鳳鄉改為阿里山鄉。(戊)紅毛→新豐：新竹縣新豐鄉，原因荷蘭人的紅髮而得名，境內有紅毛港，日治時期設紅毛庄，戰後改制為紅毛鄉，1956 年因名稱不雅，取鄉內新庄子之「新」，萃豐莊之「豐」字、改稱新豐鄉。故答案選(C)。
27. 圖中甲、丁位於採樣點的上游位置，丙集水區內則無崩塌地分布；乙點位於河川較下游的地區，且上游集水區內分布三塊崩塌地，這些崩塌的土石直接進入河道，造成河內的含沙量增高，所以在大雨後乙點所採樣本的含沙量會是最高的，故答案選(B)。
28. 題意「西班牙和黑人」可以判斷應為拉丁美洲，中南美洲除了巴西以外各國皆曾為西班牙的殖民地，而西班牙曾引進黑人從事勞力工作，所以也有黑人居住在當地。故答案選(C)。
29. 紡織業為傳統勞力密集型產業，在美國設立紡織廠，需支付較高的勞力成本，以自動化生產利用電腦控制機器製程，能有效降低勞力成本同時擴大產能。(B)即時與彈性的生產為降低倉儲成本的方式，非是降低勞力成本；(C)(D)與克服美國勞力成本較高的不利因素無關。



廠生產的新契機。臺灣紡織業者若欲前往美國設廠，可利用下列哪項生產方式的轉變，以克服美國勞力成本較高的不利因素？(A)自動化生產的精進 (B)即時與彈性的生產 (C)有效率轉包與代工 (D)空間分工鏈的重組。

* (C) 30.圖 2 為某一地區的數值地形模型 (DEM)，圖 3 是該地區某一道路由左至右的高度剖面示意圖。圖 2 中哪條田野調查路線最符合圖 3 的道路地形變化？(A)甲 (B)乙 (C)丙 (D)丁。

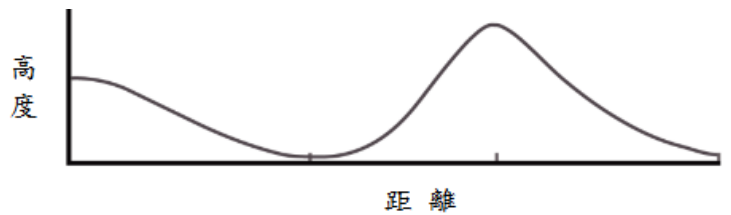
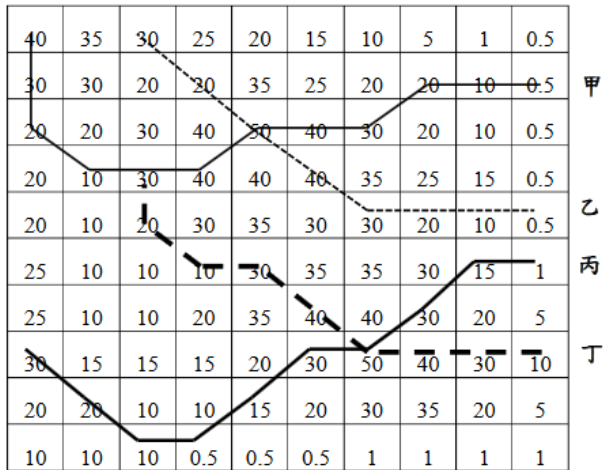
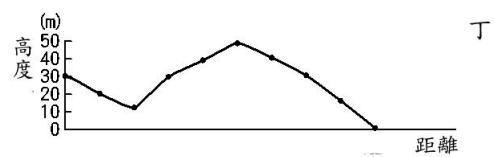
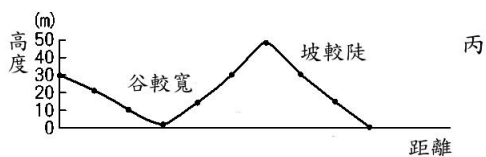
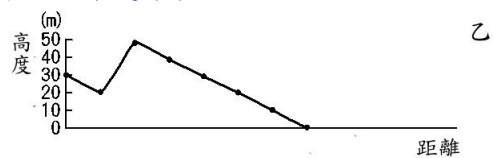
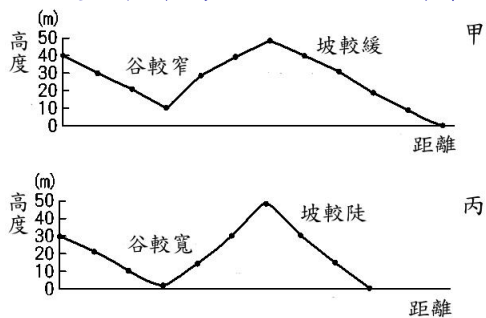


圖 3

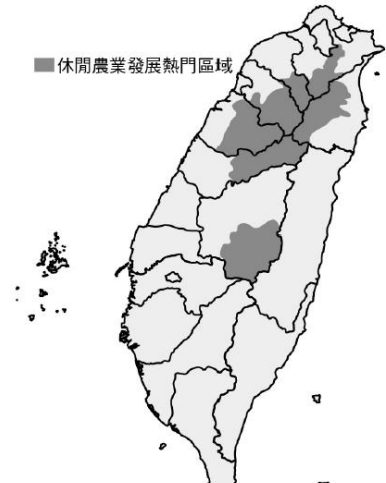
圖 2

30. 圖中顯示該地區最高為 50 單位，最低為 0.5 單位，剖面圖地形型態「先由高下降為寬谷，再為山丘」，以甲和丙路線的剖面圖型態較為接近，但丙的谷型較甲為寬廣，且右側山坡丙較甲為陡，故以丙曲線最符合剖面圖，答案選(C)。





* (B) 31. 某同學擬定一探究計畫，題目為「臺灣休閒農業區設置空間特性之探討。」在蒐集資料的過程中，根據某學者所繪製之臺灣休閒農業區發展熱門區域的空間分布圖（右圖）建立假說。下列哪個假說最為合理？(A) 易達性高地區較具發展休閒農業區潛力 (B) 原住民鄉鎮區較具發展休閒農業區潛力 (C) 休閒農業主要沿著臺三線公路兩側發展 (D) 休閒農業區主要透過傳統茶業產區轉型。



* (D) 32. 婆羅洲島約介於北緯 7 度到南緯 4 度，東經 109 度至 119 度之間（圖 5）。根據經緯度推算，婆羅洲島的面積大約是多少平方公里？(A) 5 萬 (B) 20 萬 (C) 40 萬 (D) 75 萬。

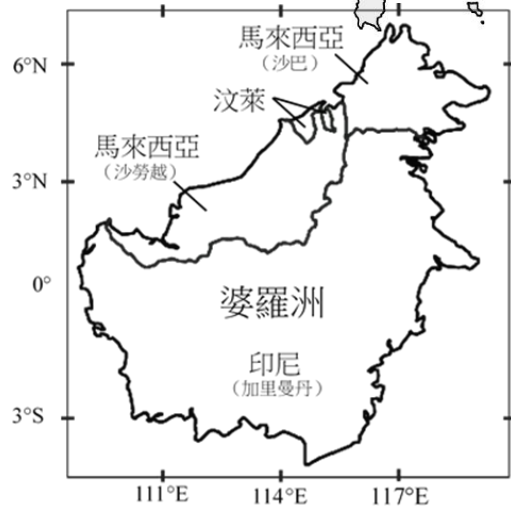


圖 5

◎圖 6 為臺灣周邊某島嶼的等高線地形圖（右）和該島西岸不同時間的海岸線位置圖（左），請問：

31. 圖中休閒農業熱門發展區域大多位在中北部山區的原住民鄉鎮，這些區域原就以農業蔬果栽培與溫泉經營為主，故發展休閒農場較為容易。(A) 圖中區域位於高山林地，易達性並不高；(C) 若是沿著臺三線公路兩側發展，則應是呈現帶狀分布，南投的熱門休閒農場也不在臺三線的路線上；(D) 臺灣主要的產茶區以南投縣為最大宗，其次為嘉義縣、新北市與桃竹苗地區，與圖中主要聚集於北部山區並不相符。
32. 婆羅洲島地跨赤道，而赤道附近的經度與緯度距離皆為 110 公里，圖中每一方格的面積亦大致相同。因此，可粗略估計圖中每一方格面積約為 $110 \times 110 = 12,100$ 平方公里，將圖中經緯線以方格法切割後，其中完整的方格共有 41 格，不完整的方格約有 45 格，因此估計出的面積為 $12,100 \times (41 + 45 \times 0.5) = 76$ 萬 8,350 平方公里，故答案選(D)。

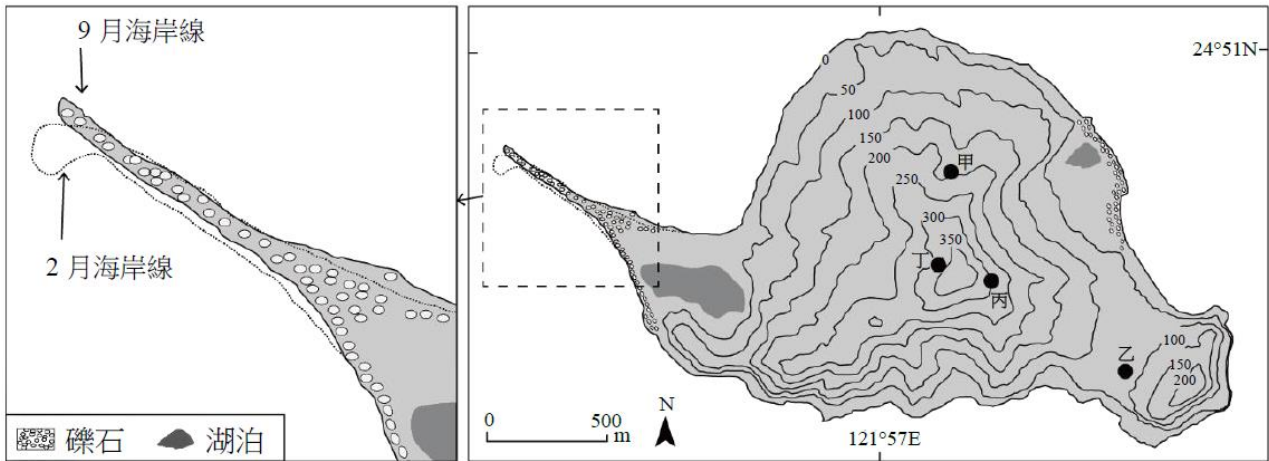


圖 6

- * (D) 33. 圖 6 (左) 海岸線 9 月、2 月不同，導致這種變化最主要的原因為何？(A) 洋流變化 (B) 颱風侵襲 (C) 潮汐漲退 (D) 季風交替。
- * (C) 34. 下列何種景觀最可能出現於該島嶼？(A) 海岸裙礁 (B) 石灰岩溶洞 (C) 溫泉與硫氣孔 (D) 玄武岩柱狀節理。
- * (C) 35. 如果要在該島嶼上設置可觀賞日出第一道曙光的觀景台，圖 6 (右) 中何地最適合？(A) 甲 (B) 乙 (C) 丙 (D) 丁。
- ◎ 圖 7 是中國的水資源分區圖，可分為北部、南部、西南諸河區、西北諸河區四個水資源分區，表 3 為 2016 年各分區水資源的使用量和用水類型的耗水量結構統計，請問：



圖 7

表 3

單位：億立方公尺

水資源分區	各水資源的使用量	各用水類型的耗水量
-------	----------	-----------

33. 台灣位處冬夏季風風向相反氣候區，龜山島的龜尾部分，每年受冬季強烈東北盛行風的吹拂影響，偏向西南方，夏季時受西南風影響又將其反向回復，周而復始。
34. 龜山島為火山噴發堆積所成，目前仍有溫泉及硫氣孔等火山相關活動，屬於活火山。岩層主要是由安山岩質的熔岩流和火山碎屑岩所分別構成。龜甲山峰海拔 398 公尺為全島最高點。
34. 龜山島龜首為朝東方向，從等高線視域分析判斷，丙地位於最高點龜甲山峰下方，前無障礙物，為最佳觀賞日出觀景台所在。



	地表水	地下水	其他	生活	工業	農業	其他
甲	3064.8	106.5	17.5	536.3	1016.4	1596.3	39.8
乙	1226.9	794.2	50.8	257.1	264.1	1469.9	80.8
丙	99.0	3.2	0.1	10.5	8.8	82.0	1.0
丁	521.5	153.1	2.4	17.7	18.7	619.7	20.9

* (A) 36. 中國因水資源分布不均而推動跨區調水工程，該工程主要由哪個水資源分區調水到另一個水資源分區？(A)甲→乙 (B)甲→丁 (C)乙→丙 (D)乙→丁。

* (D) 37. 加工用番茄的理想栽培環境是：生長期日照時數長，晝夜溫差大，氣候乾燥少雨但灌溉用水充足。某食品加工企業在選擇生產番茄汁的設廠區位時，以哪個水資源分區最佳？(A)甲 (B)乙 (C)丙 (D)丁。

◎所謂「生態服務」，係指生態系統在運作過程中，能形成及維持人類賴以生存的自然空間及物化條件。如臺灣蚵仔養殖主要分布於西南沿海地區，不僅形塑獨特的養蚵文化，生產過程中還可以淨化海水，穩定海岸，蚵棚也成為魚蝦蟹的棲息地，其副產品蚵殼的碳酸鈣成分為過去製作石灰的原料，深具有「生態服務」的價值。近年來有某縣市首長計畫在近海地區進行填土造陸工程以興建大型商城。地方人士認為該開發案勢必會衝擊養蚵文化和生態服務功能，因此推動公民投票反對此一開發案。在爭取提案成立過程中，公投發起人士逐一拜訪當地居民，成立公民論壇，邀請民眾討論開發案之利弊。參與民眾日趨增加，雖立場各有不同，卻共同自發組成社區發展協會。該公投案最後未能成立，土地開發案亦隨之執行。請問：

* (A) 38. 養蚵產業除可淨化海水、穩定海岸外，還具有哪些「生態服務」的價值？

甲、固碳 乙、防止地層下陷 丙、增加生物多樣性 丁、有利濕地植物群聚 戊、吸引洄游魚類產卵：(A)甲丙 (B)乙丁 (C)乙戊 (D)丙丁。

◎十八世紀，清朝一位皇帝對該朝首都地理形勢描述：「右擁太行左滄海，南襟河濟北居庸。會通帶內遼海外，雲帆可轉東吳粳（稻米）。」請問：

36. 甲的水資源總使用量最多，應是人口眾多、產業發達，並且有長江、珠江等水資源豐沛的南部。乙用水量居次，應為降水不多，但人口也多、產業發達的北部。丁的地表水（高山雪水）及地下水（井水）均較多，且農業耗水量高，應是乾燥的西北區。丙則是地形險阻開發遲緩，用水量最少的西南區。中國主要跨區的南水北調，是將長江流域的水引至華北地區，故選擇(A)甲→乙。

37. 番茄生長條件：「生長期日照時數長，晝夜溫差大，氣候乾燥少雨但灌溉用水充足」，表中西北乾燥區（丁）最符合條件。

38. 牡蠣殼的主要成份為碳酸鈣（ CaCO_3 ），二氧化碳溶於水會產生碳酸氫根（ HCO_3^- ），然後碳酸氫根與鈣離子在生物體內結合，經由鈣化作用形成碳酸鈣，將二氧化碳封存於牡蠣殼中，形成固碳作用（甲）。此外，大量設置的蚵棚、蚵架，吸引魚蝦蟹類聚集，提供了海洋生物棲息地和庇護所，增加生物多樣性（丙）。除此之外，蚵架亦可作為天然的海岸緩衝區，吸收打向海岸線的波浪能量，並減少海平面上升和暴風雨等造成的水土流失，故答案選(A)甲丙。（乙）地層下陷與超抽地下水有關；（丁）養蚵一般在沙岸淺海處，非在濕地潮間帶；（戊）台灣西部淺海沙岸，鮮少有適合洄游魚類產卵處。



- * (B) 44. 中國的環境該首都及其附近地區在現代經濟發展中，必需克服的環境限制為何？(A) 礦物原料短缺 (B) 淡水資源不足 (C) 冬夏溫差劇烈 (D) 土壤退化嚴重。
- * (D) 45. 十九世紀下半葉，「雲帆可轉東吳粳」的情況則有大幅改變，造成此一改變的最主要原因為何？(A) 美洲作物引進 (B) 鐵路運輸興起 (C) 捻亂破壞航路 (D) 海運取代漕運。

46-47 為題組

◎某島嶼在十六至十九世紀間原是西班牙大帆船貿易航線上的重要修補站，1898 年美西戰爭時，該島遭美國併吞。太平洋戰爭期間，日本曾占領該島。二次大戰後期，美軍奪回該島後，在該島建立空軍基地，作為戰時控制東南亞和東北亞空域的據點。請問：

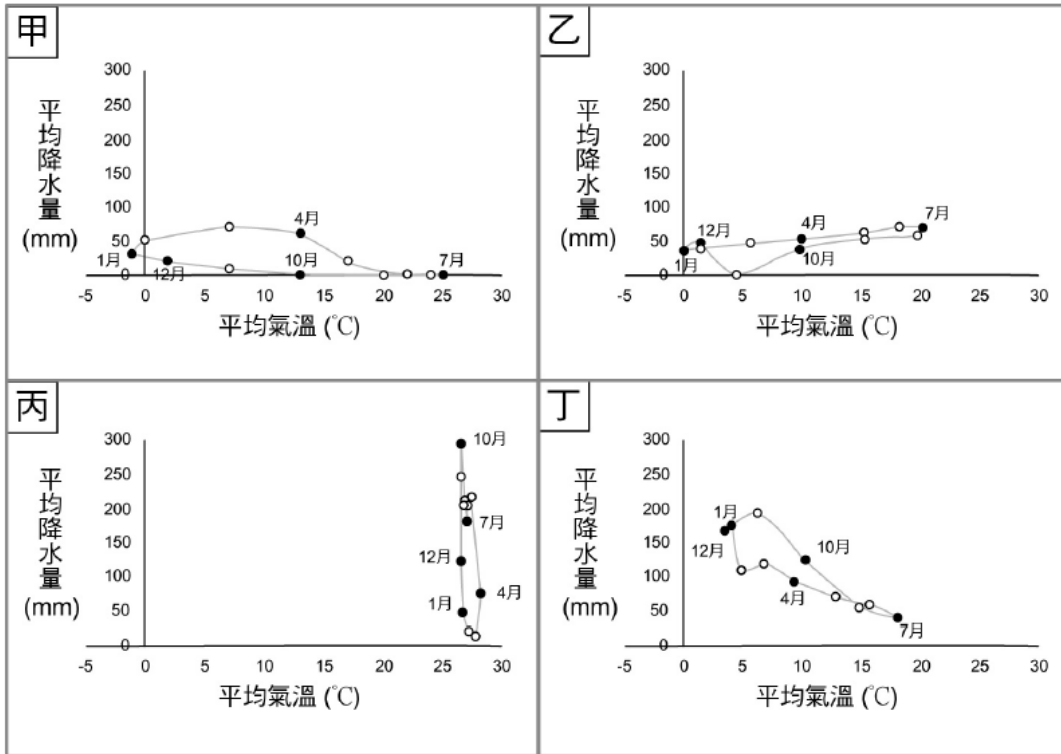
- * (A) 46. 該島嶼最可能是：(A) 關島 (B) 琉球 (C) 硫磺島 (D) 夏威夷島。
- * (C) 47. 該島控制空域的周邊國家，大多是哪兩個國際組織的成員國？甲、OPEC（石油輸出國家組織）乙、APEC（亞太經濟合作會議）丙、OAS（美洲國家組織）丁、ASEAN（東南亞國家協會）：(A) 甲乙 (B) 甲丙 (C) 乙丁 (D) 丙丁。

48-50 為題組

44. 清朝首都為北京，位於華北地區，為人口眾多經濟發達之區，現代經濟發展必須克服水資源欠缺的問題，故答案選(B)。(A)北京靠近山西、陝西等礦物產地區，原料豐富；(B)冬夏溫差氣候，在北京不足以影響產業發展；(D)土壤退化嚴重對於農業生產影響較大，對工商業為主的現代經濟影響有限。
45. 「雲帆可轉東吳粳」，意味原來利用漕運將東南糧食運往北方現象，在後期因京杭大運河淤積堵塞，改轉向發展海運，故選擇(D)。(A)美洲作物明朝已開始引進，主要是品種的引進，與漕運的改變無關；(B)中國鐵路現代化的建設始於二十世紀初才開始；(C)捻亂破壞雖然造成漕運受阻，但不是主要原因。
46. (A)關島於16世紀被西班牙殖民，1898年美西戰爭後成為美國的領土。1941年，太平洋戰爭期間遭日軍佔領。1944年被美軍奪回，至今仍是美國重要的海空軍基地。(B)琉球、(C)硫磺島從未成為西班牙領土，且分別在1879年、1891年先後被日本併吞；(D)夏威夷島在1898年被美國併吞，太平洋戰爭期間僅遭日本襲擊（珍珠港事件）非占領。
47. 依題幹敘述可知該島嶼控制空域的地方位於東南亞與東北亞，故選擇組織中成員國位於東南亞與東北亞的APEC（亞太經濟合作會議）與ASEAN（東南亞國家協會），答案(C)乙丁。甲、OPEC（石油輸出國家組織）成員包括石油主要輸出國沙烏地阿拉伯、委內瑞拉、科威特、伊拉克及伊朗等國。乙、APEC（亞太經濟合作會議）位於環太平洋地區，成員分布在美洲、亞洲和大洋州。丙、OAS（美洲國家組織）成員多分布於北美、中美、南美。丁、ASEAN（東南亞國家協會）成員包含，印尼、馬來西亞、菲律賓、泰國、新加坡、汶萊、柬埔寨、寮國、緬甸、越南等。



◎圖 8 為甲、乙、丙、丁四個地點長期的月均溫與月雨量變化圖。請問：



- * (A) 48. 某一湖泊原是世界第四大湖，1960 年代前後，人們開始從注入該湖泊的兩條河川取水，在兩岸地區發展灌溉，栽培棉花和稻米等農作物，造成入湖河水大幅減少，不僅導致湖泊水位降低，且趨近乾涸，也在該湖泊周圍地區引發嚴重的環境生態問題。該湖泊位於圖中哪個地點代表的氣候區？(A)甲 (B)乙 (C)丙 (D)丁。
- * (B) 49. 十九、二十世紀之交，某帝國首都中的猶太族裔在以下幾個行業占絕對優勢，例如有七成的金融家、六成的律師和醫生以及五成記者屬於猶太族裔。該首都最可能位於圖中哪個地點代表的氣候區？(A)甲 (B)乙 (C)丙 (D)丁。
- * (C) 50. 十八世紀上半期，一位旅行者描述一地：氣候土壤不佳，平時杳無人煙，但

48. 題意敘述該地發展灌溉，種植棉花、稻米，導致湖泊水位降低甚至乾涸，應為為中亞鹹海地區，屬於溫帶乾燥氣候。甲圖：年溫差大，年雨量約 250~300mm，屬北半球溫帶乾燥氣候；乙圖：年溫差大，雨量稍多約 700mm，屬北半球溫帶大陸性氣候；丙圖：各月均溫在 25 度以上，年溫差小且乾溼分明，屬北半球熱帶莽原氣候；丁圖：全年有雨（約 1100mm）秋冬濕潤，且年溫差較小，夏溫低於 20 度，應屬北半球溫帶地中海型氣候和溫帶海洋型氣候的過度帶地區；故選(A)甲。
49. 因德意志帝國的猶太人於十九、二十世紀之際，在科學、金融、法律等領域上皆因人才輩出而具有優勢地位，推論為德意志帝國首都柏林。或是庇護來自奧匈帝國各地與俄羅斯猶太難民的首都維也納，兩地氣候類型皆屬於溫帶大陸性氣候，故選(B)。
50. 可可、羊駝與金雞納樹等皆原產於南美洲，而南美洲的金銀礦產主要產在秘魯、智利與玻利維亞一帶。題意中敘述該地點氣候土壤不佳，平時杳無人跡可知，故不可能是環境



每年有一段時間有大量船隻湧入，水手用船帆在港口旁廣場搭起帳棚，保護卸下的貨物；各由上百隻騾組成的商隊運來一箱箱的金銀；一些小船載滿當地生產的可可、羊駝毛、金雞納樹皮等商品前來販售。此地最可能位於圖中哪個地點代表的氣候區？(A)甲 (B)乙 (C)丙 (D)丁。

51-53 為題組

◎清朝初年，政府起用傳教士協助官員繪製《皇輿全覽圖》。康熙 52 年 5 月 20 日（陰曆），皇帝下令：「往河南、江南畫輿圖去的官和西洋人不必回來，就彼處往浙江舟山等處、福建臺灣等處畫去。但走海時，著伊等謹慎看好天色時節行走，不必急了。」從康熙 49 年到 55 年共完成「有度數直隸、山東等 13 省全省圖 14 張」。這些地圖都以「府」為基本量算單位，用墨色硬筆繪製，度數用阿拉伯數字記在圖的邊框，山川城鎮符號基本一致。請問：

* (C) 52. 皇帝下令：「走海時，著伊等謹慎看好天色時節行走，不必急了。」主要是因為當時節的天候環境有何特色？(A)潮差變化不定 (B)雷暴雨日數多 (C)東南季風興起 (D)沿岸涼流強勁。

* (D) 53. 論者認為：《皇輿全覽圖》係由傳教士執筆繪製。題文中哪項資料可支持此論點？(A)全圖使用墨色硬筆繪製 (B)山川城鎮符號基本一致 (C)以府為基本的量算單位 (D)度數用阿拉伯數字標記。

◎十七世紀時，亞洲水域的遠東航路上，一艘帆船從公司總部所在的港口出發，船上載滿胡椒、檀香木、乳香、象牙、犀角等商品。抵達「甲」港後，卸下部分商品，並購買當地生產的鹿皮、鹿脯、砂糖等貨物裝船，繼續航行至日本。在日本把貨物賣掉，換取白銀；返航行程中，至廈門購買絲綢和瓷器。請問：

* (A) 54. 依據題文資訊，「甲」港的今名最可能是下列何者？(A)安平 (B)馬尼拉 (C)

較佳的(丁)溫帶海洋性氣候；此外，南美洲沒有(乙)溫帶大陸性氣候，故(乙)(丁)可先排除。(甲)溫帶乾燥氣候地區，亦遠離金銀產地與農產品生產地區，故當時可能交易地點應是巴西高原附近的(丙)熱帶莽原氣候之沿海港口，故答選(C)丙。

52. 陰曆（農曆）5 月 20 日，約是西曆（陽曆）的 6、7 月之間，此時正當夏季，華北地區（溫帶季風）吹的是正興起的東南季風，繪製地圖的官員或西洋人，若乘帆船往南向浙江舟山，福建臺灣等地區航行，將會遇到逆風（側風）而行使行程受阻，康熙下召之意為：「注意海象變化，留意天色變化行走，不必急了」，故答案選(C)。(A)潮差變化季節差異不大；(B)雷暴雨夏季較容易發生，但海上航行時不易預期，也不太符合題意「看好天色時節行走，不必急了」；(D)涼流主要分布於大陸西岸，中國地處大陸東岸浙江、福建等地僅有冬季「中國沿岸流」較為強勁。

53. 阿拉伯數字由古印度人發明，後經阿拉伯傳入西方。《皇輿全覽圖》是中國第一幅繪有經緯度的地圖，以阿拉伯數字記度數，反映該圖受外來知識（西洋傳教士）的影響。故選(D)。(A)(B)(C)無法佐證由傳教士所繪製。

54. (A)17世紀時大航海時代的東亞貿易路線，應為荷蘭東印度公司從亞洲總部巴達維亞（雅



麻六甲 (D)雅加達。

- ◎某國位處溫帶海洋性氣候區，是由數個政治實體組成的君主立憲政體，但其中一個政治實體有獨立建國的分離主義運動。該國有一個少數黨，係由早期街頭暴力抗爭的公民團體轉型而來，倡議立法讓該政治實體舉行獨立公投。此少數黨的民意支持度在近年來不斷攀升，且 2015 年國會大選時，政黨得票率和席次均大幅提高。表 4 是該次選舉得票率最高的七個政黨及其所獲得的議席和席次比例。請問：

表 4

政黨 (代號)	得票率	議席 (席次比例)
紅	36.9%	331 (50.9%)
橙	30.4%	232 (35.7%)
黃	12.6%	1 (0.2%)
綠	7.9%	8 (1.2%)
藍	4.7%	56 (8.8%)
靛	3.8%	1 (0.2%)
紫	0.6%	8 (1.2%)

- * (B) 58. 根據下列四個都市景觀的描述判斷，哪個都市最可能出現在該君主立憲政體？甲、氣候夏熱冬寒，年降水量 850mm 左右，夏雨較多。是世界傳統汽車中心，近年因汽車工業衰退，都市人口大幅外流。主場設於本市的職業球隊以活塞籃球隊和紅翼冰球隊最有名。乙、終年溫和溼潤，無明顯乾季，年降水量為 800mm 左右，降水時間長，降水強度小。市區內有許多工業革命遺址改造成的歷史博物館，足球是該市文化的重要部分，有兩個著名的足球會設於本市。丙、冬夏的溫差很大，年降水量 1100mm 左右，乾溼季節不明顯，是十九世紀後期才興起的都市，為全國最重要的農牧產品集散地，食品加工業發達。職業棒球火腿鬥士隊主場設於本市。丁、全年高溫，年降水量 900mm 左右，乾溼季節分明。目前是該國科技研究的樞紐、資訊科技的中心和 IT 產業的重鎮。職業板球皇家挑戰者隊主場設於此。(A)甲 (B)乙 (C)丙 (D)丁。

加達)，將東南亞的商品運往臺灣的「安平港」，並購買臺灣所生產的鹿皮、鹿脯、砂糖等產品，再轉往日本銷售換取日本白銀，然後再往南航行至廈門購買中國絲綢與瓷器。(B)馬尼拉，西班牙統治未以公司形式經營，沒有建立轉口貿易；(C)麻六甲，十七世紀時先後被葡萄牙、荷蘭統治，主要為當地物產的輸出地，非轉口貿易中心；(D)雅加達，荷蘭聯合東印度公司總部的所在地，非商品轉換的港口。

58. (B) 某國位處溫帶海洋性氣候，終年溫和溼潤，且無明顯乾季的。並由市區內有許多工業革命遺址改造成的博物館，以及有兩個著名足球會，可知該市應為英國的曼徹斯特。(A)傳統汽車中心但近年汽車工業衰退，且以活塞籃球隊有名，應是美國的底特律；(C)乾溼季節不明顯、農牧產品的集散地，且職棒火腿鬥士隊設於本市，應是北海道的札幌市；(D)科技的樞紐、IT 的重鎮，職業板球皇家挑戰隊，可判斷應為印度的邦加羅爾。



◎柬埔寨為中南半島的文明古國，昔稱扶南，後名真臘、高棉帝國。真臘和鄰近的占城、暹羅等地，是宋代成形的「南海貿易體系」成員，當時中國和東南亞間的貿易商船往來不絕，許多東南亞的物種隨貿易活動傳入中國。《宋會要》記載：紹興三年進口商品中，以香料、藥材、珍寶為主。《諸蕃志》也列舉中國商人在真臘、占城等 15 個地區販售的商品有瓷器、絲織品、酒、漆器等。柬埔寨於十九世紀淪為法國保護國，1953 年才獨立；但獨立後長年動亂，某國際組織乃通過決議，在該國成立柬埔寨臨時權力機構，於 1992 年至 1993 年協助該國重建和平政府，舉行自由和公正的選舉並制定新憲法，使該國恢復正常秩序；這也是該國際組織第一次接手管理一個獨立國家。該國政局較為穩定後，臺商也陸續到該國投資紡織成衣、製鞋、農產、木材加工等產業。請問：

* (C) 61. 題文指出的臺灣相關產業陸續到柬埔寨投資設廠，最適合用下列哪一概念解釋？(A) 絕對利益 (B) 工業慣性 (C) 區位移轉 (D) 工業連鎖。

◎圖9是1848年至1849年歐洲一系列武裝革命運動的分布情形，這波革命運動雖然都以失敗告終，但對歐洲的影響卻極為深遠。請問：

* (C) 64. 歐洲的氣候大致可區分為溫帶海洋性、溫帶地中海型、溫帶大陸性、高地、副極地大陸性、苔原等六個氣候區。1848 年至 1849 年發生的系列武裝革命運動，主要集中於哪兩個氣候區？(A) 溫帶海洋性氣候區、高地氣候區 (B) 溫帶大陸性氣候區、副極地大陸性氣候區 (C) 溫帶地中海型氣候區、溫帶大陸性氣候區 (D) 溫帶海洋性氣候區、溫帶地中海型氣候區。



圖 9

67-69 為題組


◎臺灣各地聚落廟宇甚多，規模不一，其門柱均附有對聯，揭示廟宇地點、主祀神及價值規範等相關訊息。照片 1 是四個不同聚落廟宇的立面照，照片下方是該廟大門兩側門柱的對聯，其中照片 1 甲對聯中「鯤鵬」是「傳說中奇大無比的神鳥」；照

61. 臺商將產業移往柬埔寨等海外設廠，符合因區位條件改變，而選擇的(C)區位移轉。(A) 絕對利益是一經濟學概念，指相同生產條件下生產同一項商品，能生產較多者有絕對利益；(B) 工業慣性指工業區位雖已喪失優勢，但因土地、機械等投資龐大而無法遷走，繼續停留在原地的傾向；(D) 工業連鎖指各廠商在業務營運、製造等過程中，互補互利的連鎖關係。

64. 圖中星號除法國巴黎外，主要分布於義大利半島和東歐地區(奧地利帝國與鄂圖曼帝國)，其中義大利屬於溫帶地中海型氣候，東歐地區屬於溫帶大陸性氣候，故選(C)。



片 1 乙對聯中「鯤瀛」是「海邊的新家園」之意。請問：



* (D) 67. 哪座廟宇的所在地，早期血緣聚落色彩最為濃厚？(A) 甲 (B) 乙 (C) 丙 (D) 丁。

* (B) 68. 從廟宇的主祀神判斷，哪座廟宇所在聚落的清代漢移民，主要來自福建漳州府？(A) 甲 (B) 乙 (C) 丙 (D) 丁。

* (A) 69. 歷史傳統上常常將國家概念與王權或天下連結，並強調人民對國家的義務。下列四座廟宇中，哪座廟宇的門柱對聯最能顯示此種傳統的國家與人民關係？(A) 甲 (B) 乙 (C) 丙 (D) 丁。

◎某人到非洲某地旅行時寫道：「從機場到市區的公路寬闊又平整，公路兩邊麥田、葡萄園、橄欖園到處可見。進入市區後，歐式建築相當普遍，中心區的主幹道兩邊

67. (甲) 對聯的「褒忠」，可判斷為祭祀林爽文事件中，罹難的客家義民信仰廟（桃園縣平鎮區褒忠祠，供奉新埔枋寮義民廟分香而來的義民爺，稱為義民亭）；(乙) 上聯中的「漳邑」，及上、下聯第一字的「聖王」，可判斷為信奉開漳聖王的福建漳州府移民（新北市萬里區野柳保安宮）；(丙) 上聯「大陳島」三字，可判斷該地聚落為 1955 年大陳島民撤退來台移民有關（高雄市茄萣區南田新村威武廟）；(丁) 對聯中的「林厝」，應是林氏宗族祭祀的廟宇，具有較濃厚血緣、地緣關係的聚落色彩（臺中市西屯區林厝庄尾福德祠），故答案選(D)。
68. (乙) 上聯中的「漳邑分靈」指來自福建漳州府，上、下聯第一字的「聖王」，則是指漳州人的守護神，開漳聖王陳元光，故答案選(B)。
69. 從義民廟「褒忠祠」的對聯：「褒正人倫十三庄（原考題誤植為「座」，應是「庄」才對，意指由中壠平鎮等十三庄人士，樂捐重建所成）輝煌宇宙，忠紆國難億萬戶照耀鯤瀛」，「褒忠」所反映的「褒正人倫」、「忠紆國難」，正是強調倫理、盡忠、愛國等傳統家國思想，故答案選(A)。



有好多露天咖啡館，我挑個位子坐下，一邊品著中東式的濃咖啡，一邊看有軌電車從眼前叮叮噹噹地駛過，感覺簡直和歐洲毫無分別。不過，這裡的咖啡館幾乎全是男性工作人員與顧客，看不到女性。」請問：

- * (C) 70. 該地區最可能位於哪一自然景觀帶？(A) 熱帶莽原景觀帶 (B) 溫帶常綠林景觀帶 (C) 溫帶灌木林景觀帶 (D) 溫帶落葉林景觀帶。
- * (D) 71. 該地區農業和市區景觀具有濃厚歐洲色彩，主要和哪些國家的殖民經驗有關？(A) 英國、荷蘭、義大利 (B) 荷蘭、德國、西班牙 (C) 英國、法國、比利時 (D) 法國、西班牙、義大利。

70. 從題意：「…葡萄園、橄欖園到處可見」，可知此地應為溫帶地中海型氣候，植被以溫帶灌木林為主。

71. 該地氣候為地中海型氣候區，又有中東式的濃咖啡，可判斷應為同屬伊斯蘭文化的西北非地區。該地地理位置處於地中海南岸，因地緣關係的影響，在殖民時期受南歐及地中海周邊國家的殖民統治，故在農業及都市景觀中都深具相同的特色，故答案選(D)法國、西班牙、義大利。